

ELABORADO POR Jon Ibarzabal, José Manuel Mikelez, José Manuel Vilariño i
Karmele Barandiaran Ors Donostiako PAT Donostia (Guipuzcoa) PARA CLIC 3.0

ADAPTADO PARA SU USO IMPRESO POR CHANNELKIDS.COM

CUADERNILLO DE DECIMALES



ChannelKIDS
innovando en un clic

NOMBRE:



LEE CON ATENCIÓN

TODOS LA UNIDAD

$$1 = \frac{10}{10} = \frac{100}{100} = \frac{1000}{1000}$$

Décimas

$$\frac{1}{10} = 0'1$$

Centésimas

$$\frac{1}{100} = 0'01$$

Milésimas

$$\frac{1}{1000} = 0'001$$

NOMBRE: _____

COLOCA LAS CANTIDADES DONDE CORRESPONDE

<input type="text"/>	<input type="text"/>	<input type="text"/>	<input type="text"/>
U	d	c	m

COLOCA .45

<input type="text"/>	<input type="text"/>	<input type="text"/>	<input type="text"/>
U	d	c	m

COLOCA 3.05

<input type="text"/>	<input type="text"/>	<input type="text"/>	<input type="text"/>
U	d	c	m

COLOCA 4.035

<input type="text"/>	<input type="text"/>	<input type="text"/>	<input type="text"/>
U	d	c	m

COLOCA .354

<input type="text"/>	<input type="text"/>	<input type="text"/>	<input type="text"/>
U	d	c	m

COLOCA 4.005

<input type="text"/>	<input type="text"/>	<input type="text"/>	<input type="text"/>
U	d	c	m

COLOCA 5.260

<input type="text"/>	<input type="text"/>	<input type="text"/>	<input type="text"/>
U	d	c	m

COLOCA .12

<input type="text"/>	<input type="text"/>	<input type="text"/>	<input type="text"/>
U	d	c	m

COLOCA .68

NOMBRE: _____

COLOCA LAS CANTIDADES DONDE CORRESPONDE

<input type="text"/>	<input type="text"/>	<input type="text"/>	<input type="text"/>
U	d	c	m

COLOCA 182

<input type="text"/>	<input type="text"/>	<input type="text"/>	<input type="text"/>
U	d	c	m

COLOCA 4.305

<input type="text"/>	<input type="text"/>	<input type="text"/>	<input type="text"/>
U	d	c	m

COLOCA 6.038

<input type="text"/>	<input type="text"/>	<input type="text"/>	<input type="text"/>
U	d	c	m

COLOCA 8.354

<input type="text"/>	<input type="text"/>	<input type="text"/>	<input type="text"/>
U	d	c	m

COLOCA 4.565

<input type="text"/>	<input type="text"/>	<input type="text"/>	<input type="text"/>
U	d	c	m

COLOCA 5.860

<input type="text"/>	<input type="text"/>	<input type="text"/>	<input type="text"/>
U	d	c	m

COLOCA 1.268

<input type="text"/>	<input type="text"/>	<input type="text"/>	<input type="text"/>
U	d	c	m

COLOCA 688

NOMBRE:

COLOCA LAS CANTIDADES DONDE CORRESPONDE

<input type="text"/>	<input type="text"/>	<input type="text"/>	<input type="text"/>
U •	d	c	m

COLOCA 9.82

<input type="text"/>	<input type="text"/>	<input type="text"/>	<input type="text"/>
U •	d	c	m

COLOCA 3.05

<input type="text"/>	<input type="text"/>	<input type="text"/>	<input type="text"/>
U •	d	c	m

COLOCA 8

<input type="text"/>	<input type="text"/>	<input type="text"/>	<input type="text"/>
U •	d	c	m

COLOCA 6

<input type="text"/>	<input type="text"/>	<input type="text"/>	<input type="text"/>
U •	d	c	m

COLOCA 4

<input type="text"/>	<input type="text"/>	<input type="text"/>	<input type="text"/>
U •	d	c	m

COLOCA 5

<input type="text"/>	<input type="text"/>	<input type="text"/>	<input type="text"/>
U •	d	c	m

COLOCA .728

<input type="text"/>	<input type="text"/>	<input type="text"/>	<input type="text"/>
U •	d	c	m

COLOCA .25

NOMBRE: _____

COLOCA LAS CANTIDADES DONDE CORRESPONDE

<input type="text"/>	<input type="text"/>	<input type="text"/>	<input type="text"/>
U	d	c	m

COLOCA 1

<input type="text"/>	<input type="text"/>	<input type="text"/>	<input type="text"/>
U	d	c	m

COLOCA 4.3

<input type="text"/>	<input type="text"/>	<input type="text"/>	<input type="text"/>
U	d	c	m

COLOCA 8.008

<input type="text"/>	<input type="text"/>	<input type="text"/>	<input type="text"/>
U	d	c	m

COLOCA 5.3

<input type="text"/>	<input type="text"/>	<input type="text"/>	<input type="text"/>
U	d	c	m

COLOCA .001

<input type="text"/>	<input type="text"/>	<input type="text"/>	<input type="text"/>
U	d	c	m

COLOCA .25

<input type="text"/>	<input type="text"/>	<input type="text"/>	<input type="text"/>
U	d	c	m

COLOCA 8

<input type="text"/>	<input type="text"/>	<input type="text"/>	<input type="text"/>
U	d	c	m

COLOCA 7

NOMBRE:



RECORTA Y PEGA (FRACCIÓN A DECIMAL)

$65/100$	$4/100$	$65/1000$	$4/10$	$48/1000$	$48/100$
----------	---------	-----------	--------	-----------	----------

--	--	--	--	--	--

0'048	0'065	0'4	0'48	0'65	0'04
-------	-------	-----	------	------	------

$305/100$	$3005/100$	$3005/10$	$3005/1000$	$305/10$	$305/1000$
-----------	------------	-----------	-------------	----------	------------

--	--	--	--	--	--

300'5	30'5	0'305	30'05	3'005	3'05
-------	------	-------	-------	-------	------

NOMBRE:



RECORTA Y PEGA (FRACCIÓN A DECIMAL)

$24/1000$	$204/1000$	$24/10$	$24/100$	$204/10$	$204/100$
-----------	------------	---------	----------	----------	-----------

--	--	--	--	--	--

$0'24$	$20'4$	$0'024$	$2'04$	$0'204$	$2'4$
--------	--------	---------	--------	---------	-------

$1/10$	$101/100$	$101/10$	$1/1000$	$101/1000$	$1/100$
--------	-----------	----------	----------	------------	---------

--	--	--	--	--	--

$0'101$	$0'001$	$0'1$	$10'1$	$0'01$	$1'01$
---------	---------	-------	--------	--------	--------

NOMBRE:



RECORTA Y PEGA (FRACCIÓN A DECIMAL)

$4007/1000$	$325/10$	$4007/10$	$325/1000$	$325/100$	$4007/100$
-------------	----------	-----------	------------	-----------	------------

--	--	--	--	--	--

$4'007$	$40'07$	$32'5$	$400'7$	$0'325$	$3'25$
---------	---------	--------	---------	---------	--------

$101/1000$	$204/1000$	$24/100$	$1/1000$	$24/1000$	$101/10$
------------	------------	----------	----------	-----------	----------

--	--	--	--	--	--

$10'1$	$0'101$	$0'024$	$0'24$	$0'204$	$0'001$
--------	---------	---------	--------	---------	---------

NOMBRE:



RECORTA Y PEGA (DECIMAL A DECIMAL)

2'045	0'245	20'45	2'45	24'5	204'5
--------------	--------------	--------------	-------------	-------------	--------------

--	--	--	--	--	--

2045 CENTÉSIMAS	245 MILÉSIMAS	2045 MILÉSIMAS	245 CENTÉSIMAS	2045 DÉCIMAS	245 DÉCIMAS
----------------------------	--------------------------	---------------------------	---------------------------	-------------------------	--------------------

0'03	0'003	0'25	0'025	2'5	0'3
-------------	--------------	-------------	--------------	------------	------------

--	--	--	--	--	--

25 DÉCIMAS	3 DÉCIMAS	3 MILÉSIMAS	3³ CENTÉSIMAS	25 MILÉSIMAS	25²⁵ CENTÉSIMAS
-------------------	------------------	--------------------	-------------------------------------	---------------------	---------------------------------------

NOMBRE:



ESCRIBE LA FRACCIÓN

0'005

2'05

0'05

0'5

2'5

2'005

NOMBRE:



ESCRIBE EL NÚMERO DECIMAL

cinco
milésimas

doscientas
cinco
centésimas

dos mil
cinco
milésimas

veinticinco
décimas

cinco
décimas

cinco
centésimas

NOMBRE:



ESCRIBE EL NÚMERO DECIMAL

Treinta y seis
milésimas

Trescientas
siete décimas

Ochenta y
cuatro
décimas

Seis milésimas

Cuatrocientas
siete
centésimas

Veintiocho
centésimas

NOMBRE: _____



ESCRIBE EL NOMBRE DE CADA DECIMAL

30'7

4'07

0'006

8'4

0'28

0'036

NOMBRE:



ESCRIBE LA FRACCIÓN

Veintiocho
centésimas

Ochenta y
cuatro
décimas

Seis milésimas

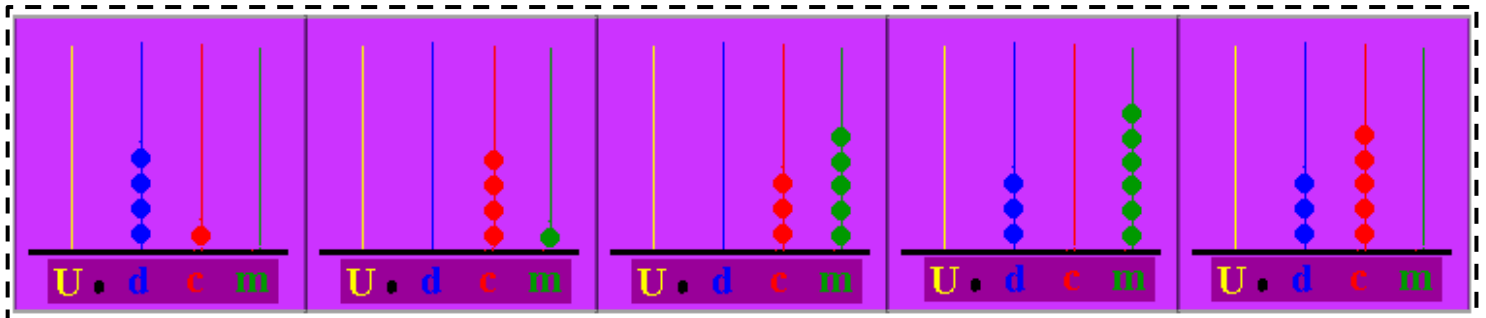

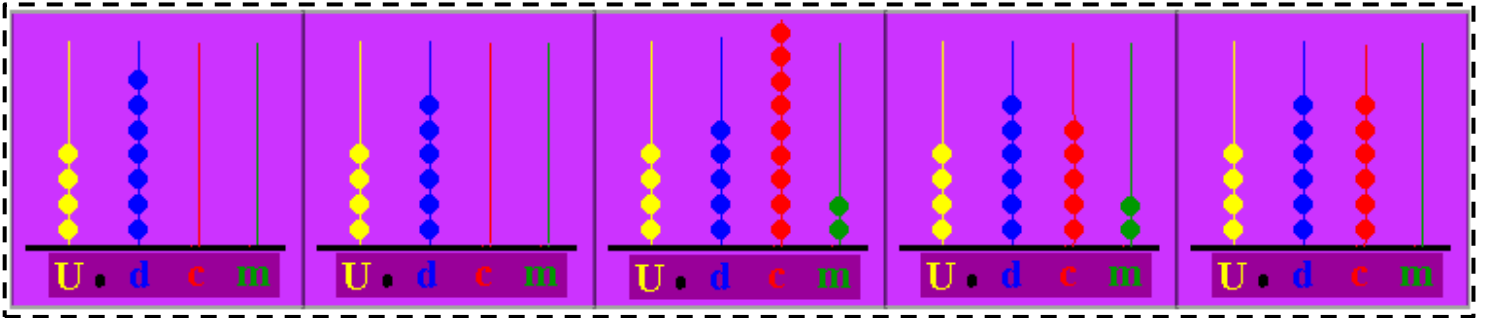

Treinta y seis
milésimas

Cuatrocientas
siete
centésimas

Trescientas
siete décimas

NOMBRE: _____

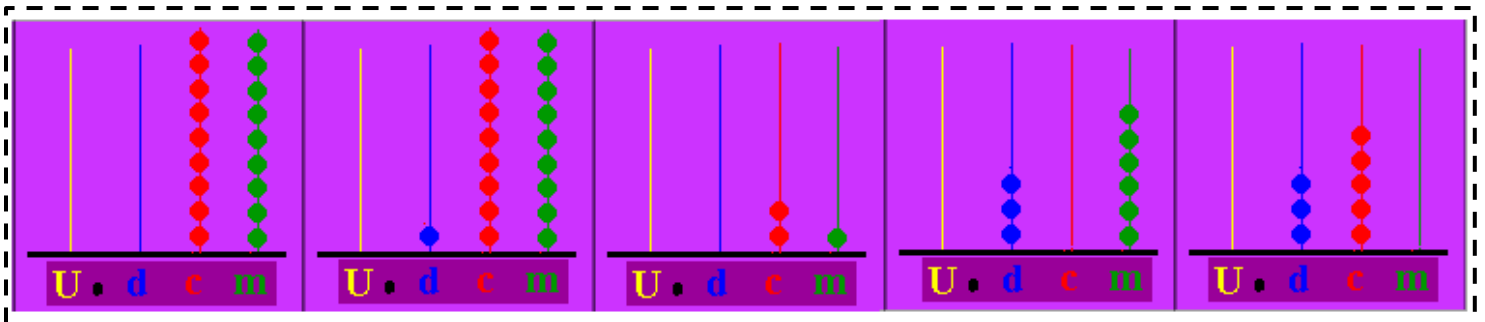

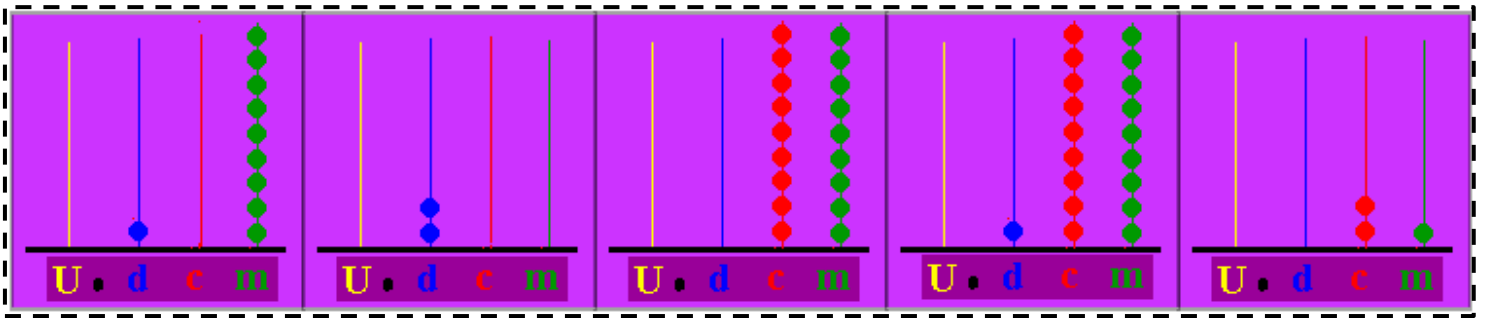

RECORTA Y ORDENA LOS ABACOS DE MENOR A MAYOR



NOMBRE:



RECORTA Y ORDENA LOS ABACOS DE MENOR A MAYOR



NOMBRE:




RECORTA Y ORDENA DE MENOR A MAYOR

--	--	--	--	--

203/100	23/10	23/100	203/1000	2/10
----------------	--------------	---------------	-----------------	-------------

--	--	--	--	--

11/1000	11/100	1/100	101/1000	111/1000
----------------	---------------	--------------	-----------------	-----------------



ChannelKIDS
innovando en un clic

VISITA

[HTTP://CHANNELKIDS.COM](http://channelkids.com)

PARA MAS MATERIAL GRATUITO