


ELABORADO POR “Profr. J. Jesús Pérez Martínez”, zonaclimexico.blogspot.mx

ADAPTADO PARA SU USO IMPRESO POR CHANNELKIDS.COM

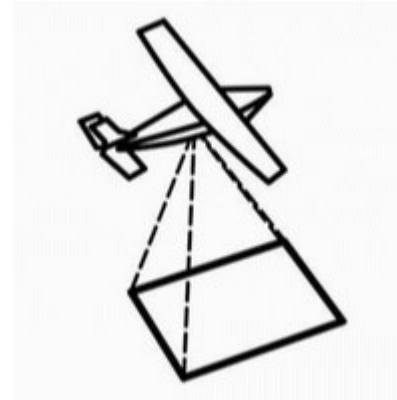
LOS PLANOS

ELEMENTOS E INTERPRETACIÓN



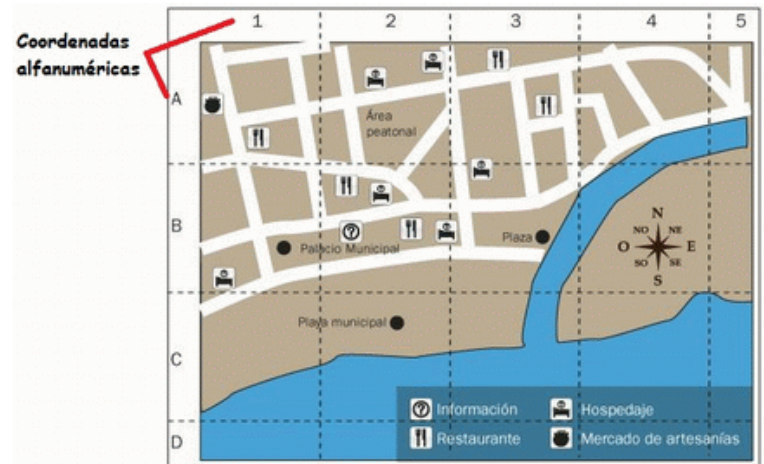
NOMBRE:

LEE CON ATENCIÓN



Un plano es la representación de una ciudad vista desde arriba, como si volaras sobre ella.

La fotografía aérea y las imágenes satelitales son importantes herramientas para la elaboración de planos.



En un plano se puede observar el trazado de las calles y las manzanas, así como algunos lugares de interés, monumentos, museos, parques, plazas públicas, etc...

Para ubicar un lugar de interés en un plano se utilizan coordenadas alfanuméricas.

NOMBRE: _____

COMPLETA CORRECTAMENTE

La fotografía _____
y las imágenes satelitales son
importantes herramientas para la
elaboración de planos.

En un plano se puede observar el
trazado de las
_____ y las
manzanas, así como algunos
lugares de interés, monumentos,
museos, parques, plazas públicas,
etc.

Para ubicar un lugar de interés en
un plano se utilizan coordenadas
_____.

Un _____ es la
representación de una ciudad vista
desde arriba, como si volaras sobre
ella.

Elemento del plano que nos permite
conocer el significado de los símbolos que
contiene:

NOMBRE:

RECORTA Y ACOMODA EL SIGUIENTE TEXTO

desde arriba, como	si volaras	la representación de
sobre ella.	Un plano es	una ciudad vista

NOMBRE:

RECORTA Y ACOMODA LAS PIEZAS

		
para la elaboración de planos		Fotografía aérea, herramienta
e una ciudad vista desde arriba		Un plano es la representación d
		

NOMBRE:

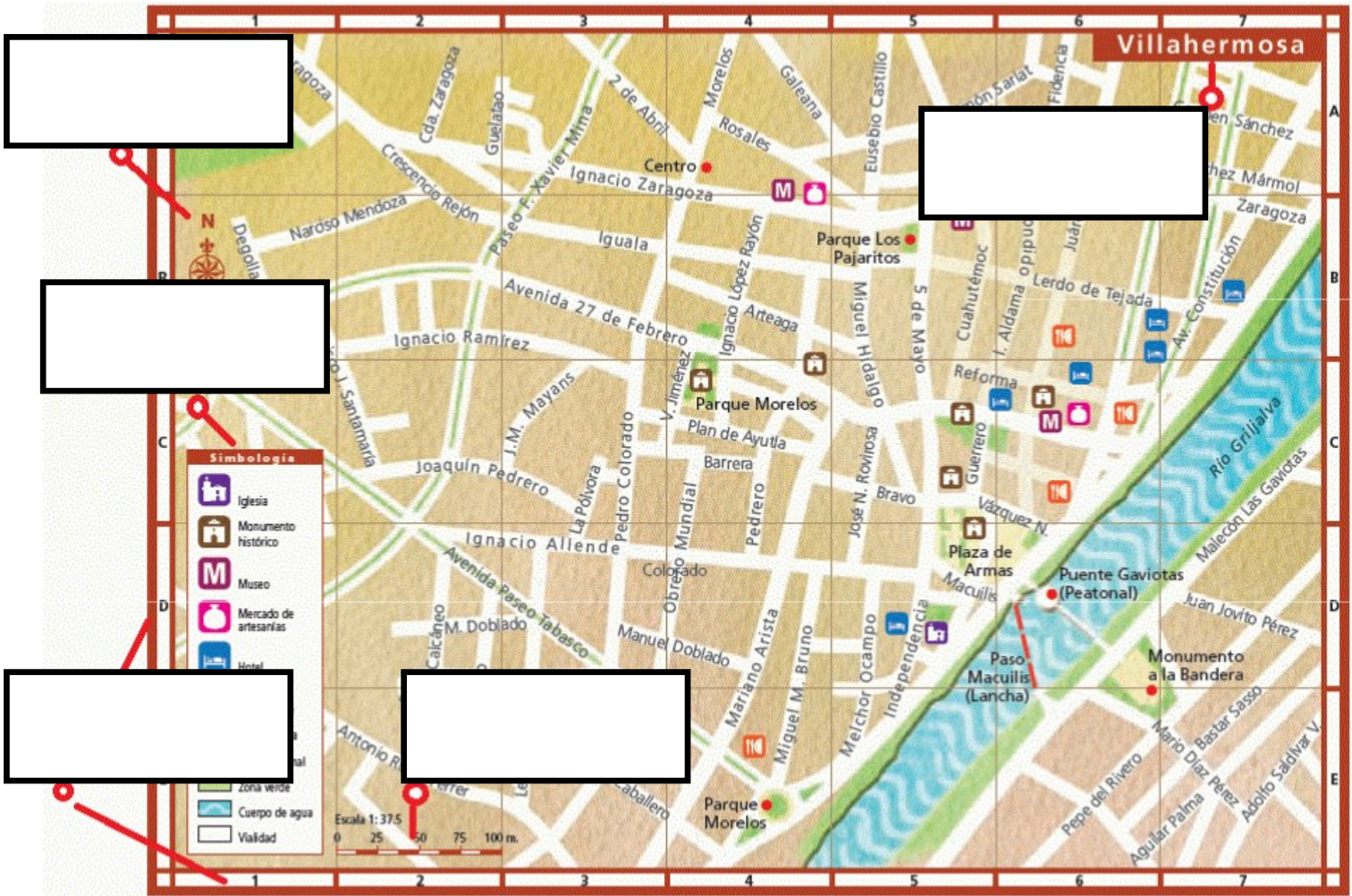
RECORTA Y ACOMODA LAS PIEZAS EN TU CUADERNO

The image shows a grid of map fragments from Morelos, Mexico, with various labels and symbols for a cutting activity. The fragments are arranged in a grid with letters A-D and numbers 1-7. The labels and symbols are as follows:

- Top Left:** Map fragment with streets like Galeana, Rosales, and Centro. A red dot marks 'Parque Los Pajaritos'.
- Top Middle:** Map fragment with streets like Adolfo Salazar V. and Monumento a la Bandera. A red dot marks 'Paso Macuilis (Lancha)'.
- Top Right:** Map fragment with streets like Zaragoza and Degollado. A red dot marks 'Quinta Grijalva'. A red arrow points to a compass rose labeled 'Rosa de los vientos'.
- Middle Left:** Map fragment with streets like Melchor Ocampo and Parque Morelos. A red dot marks 'Parque Morelos'.
- Middle Center:** A legend titled 'Escala' with a scale from 0 to 75. Below it is a legend titled 'Simbología' with symbols for Mercado de artesanías, Hotel, Restaurante, Zona urbana, Zona peatonal, Zona verde, Cuerpo de agua, and Vialidad.
- Middle Right:** Map fragment showing the 'Rio Grijalva' and 'Puente Gaviotas'. A red dot marks 'Puente Gaviotas'.
- Bottom Left:** Map fragment with streets like Francisco J. Santamaría and Simbología. A red dot marks 'Monumento Histórico'.
- Bottom Middle:** Map fragment with streets like Villahermosa and Título. A red dot marks 'Título'.
- Bottom Right:** Map fragment with streets like Plaza de Armas and Parque Morelos. A red dot marks 'Plaza de Armas'.

NOMBRE: _____

IDENTIFICA LOS ELEMENTOS DE UN PLANO



Escala

Coordenadas alfanuméricas

Título

Rosa de los vientos

Simbología

NOMBRE:

IDENTIFICA LOS ELEMENTOS DE UN PLANO

Simbología



Iglesia

Gasolinera

Mercado de artesanías

Playa

Hotel

Parada de autobús

Lugar para acampar

Hospital

Restaurante

NOMBRE:

ENCUENTRA LOS ELEMENTOS DE UN PLANO

P	K	W	E	A	I	G	O	L	O	B	M	I	S	A	T
L	R	R	H	O	C	X	U	V	H	D	W	J	W	B	I
A	N	E	E	S	C	A	L	A	Z	G	F	G	M	K	T
N	V	N	G	B	D	R	G	Z	M	W	H	N	P	K	U
O	P	X	J	V	C	G	L	P	F	O	V	B	V	C	L
L	D	J	Q	Q	P	W	G	W	C	L	U	H	Z	C	O
S	O	T	N	E	I	V	S	O	L	E	D	A	S	O	R
R	J	C	O	C	X	C	N	G	B	V	W	U	M	D	U
J	C	O	O	R	D	E	N	A	D	A	S	Z	F	Q	A
P	A	L	F	A	N	U	M	E	R	I	C	A	S	P	L

NOMBRE:

LEE CON ATENCIÓN

Referencias de orientación

Para localizar con precisión un lugar en una ciudad son de gran utilidad los planos y las referencias que se pueden dar para orientarnos y llegar con prontitud.



Oeste



Mi escuela queda a 500m al oeste de mi casa

Norte

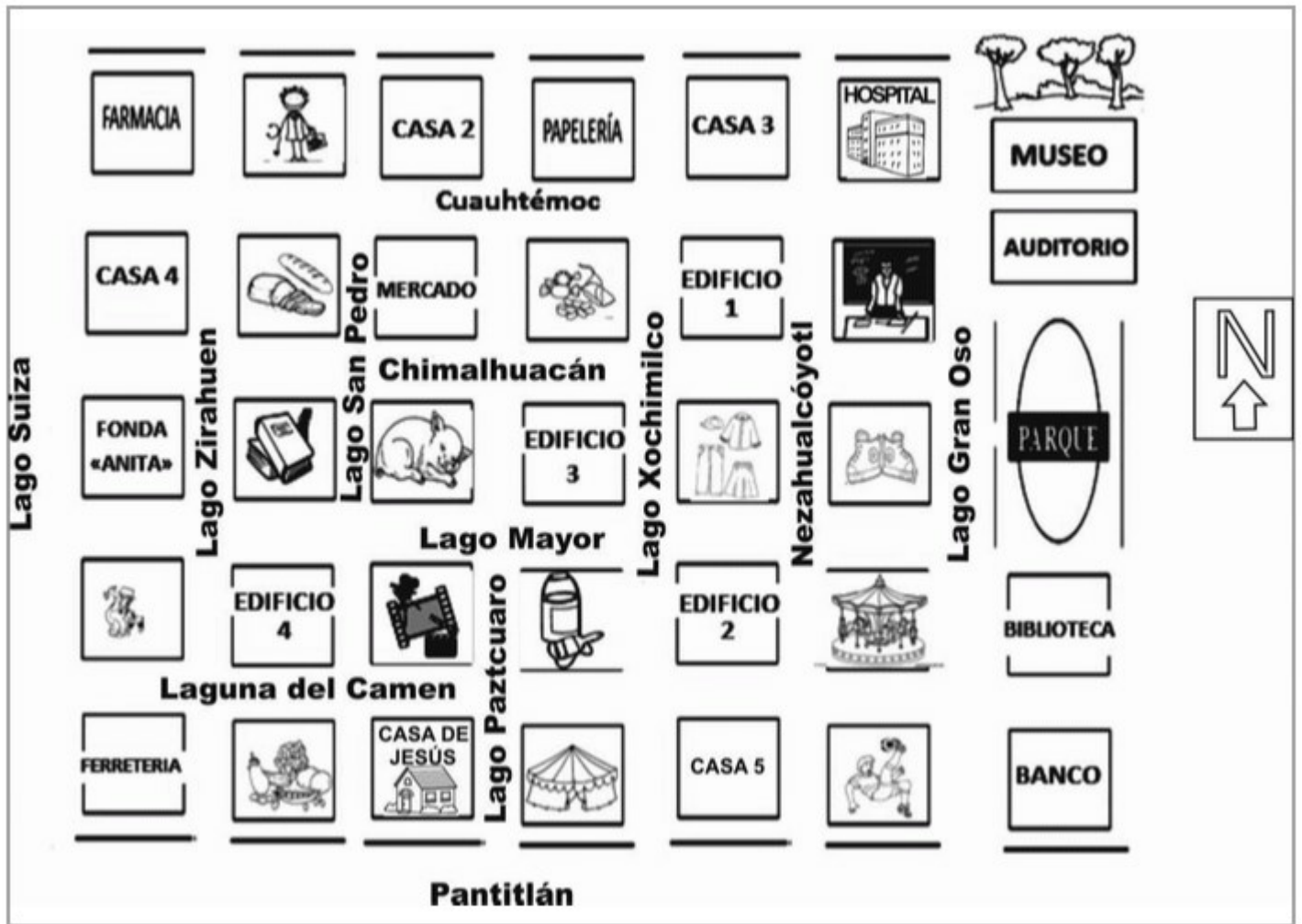
Sur

Este

Punto de partida

NOMBRE: _____

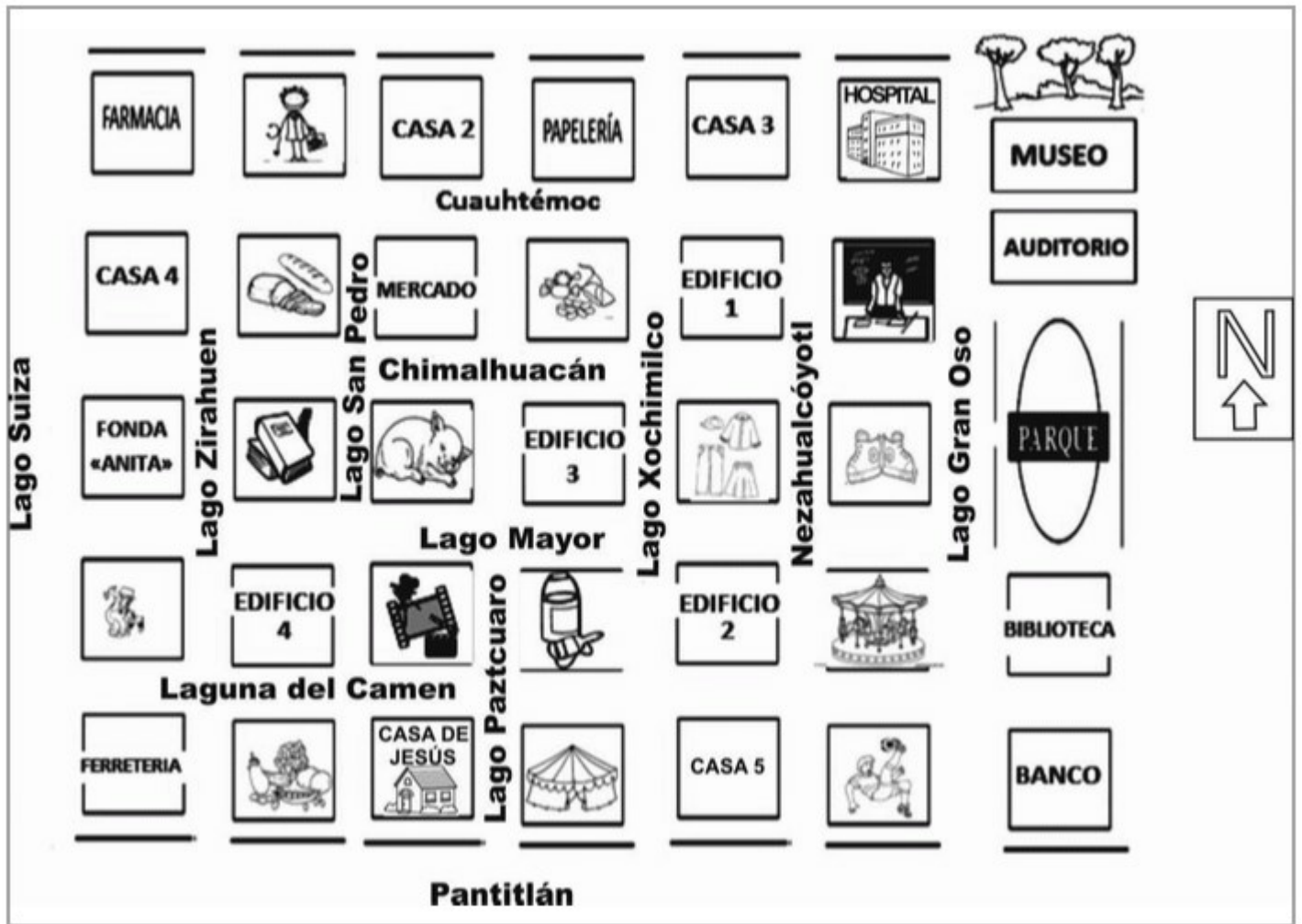
¿QUÉ LUGAR DE INTERES SE ENCUENTRA AL NORTE DEL AUDITORIO?



RESPUESTA: _____

NOMBRE: _____

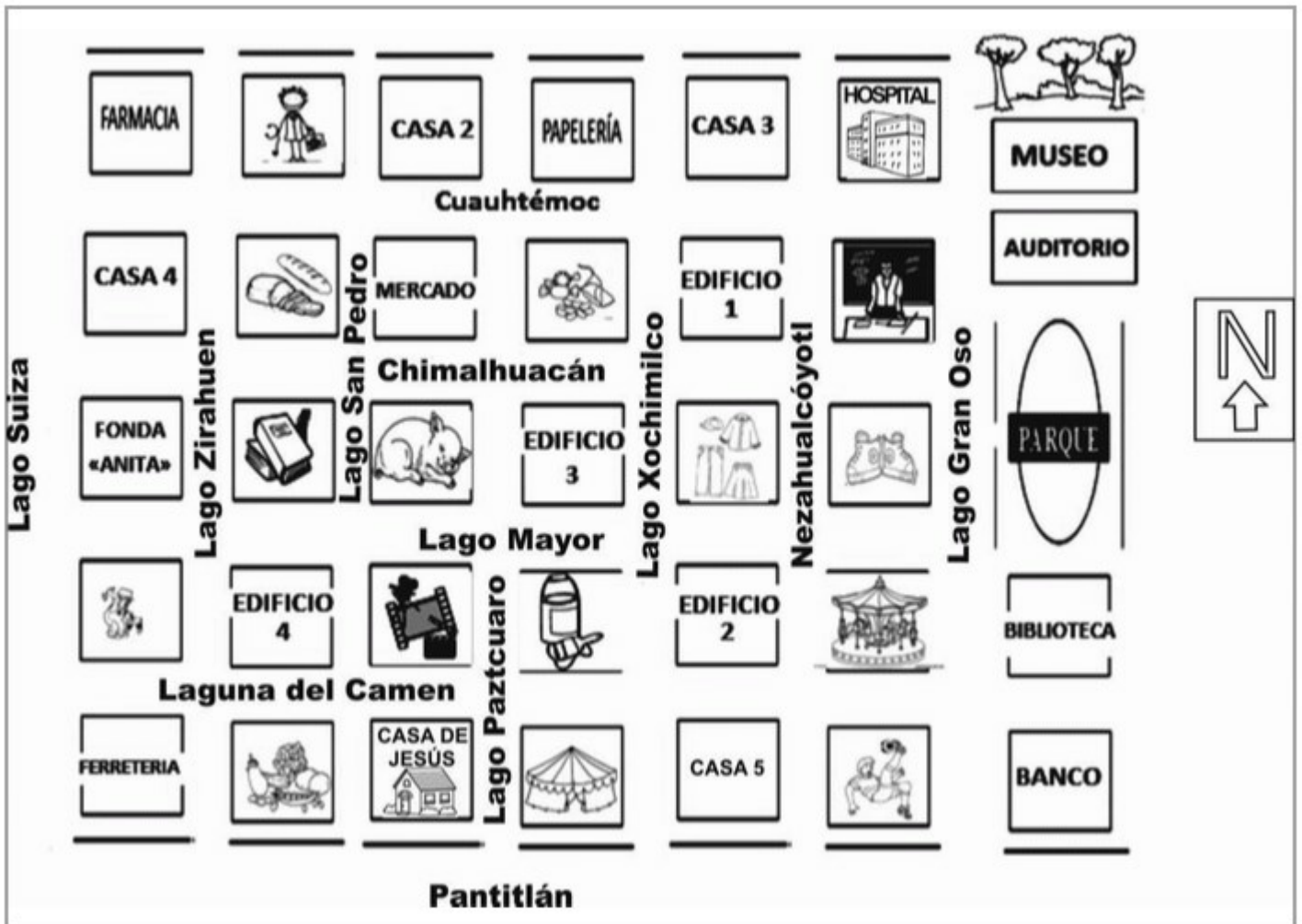
¿SOBRE QUE CALLES ENCONTRAMOS UNA FARMACIA, UNA PAPELERÍA, Y UN HOSPITAL?



RESPUESTA: _____

NOMBRE: _____

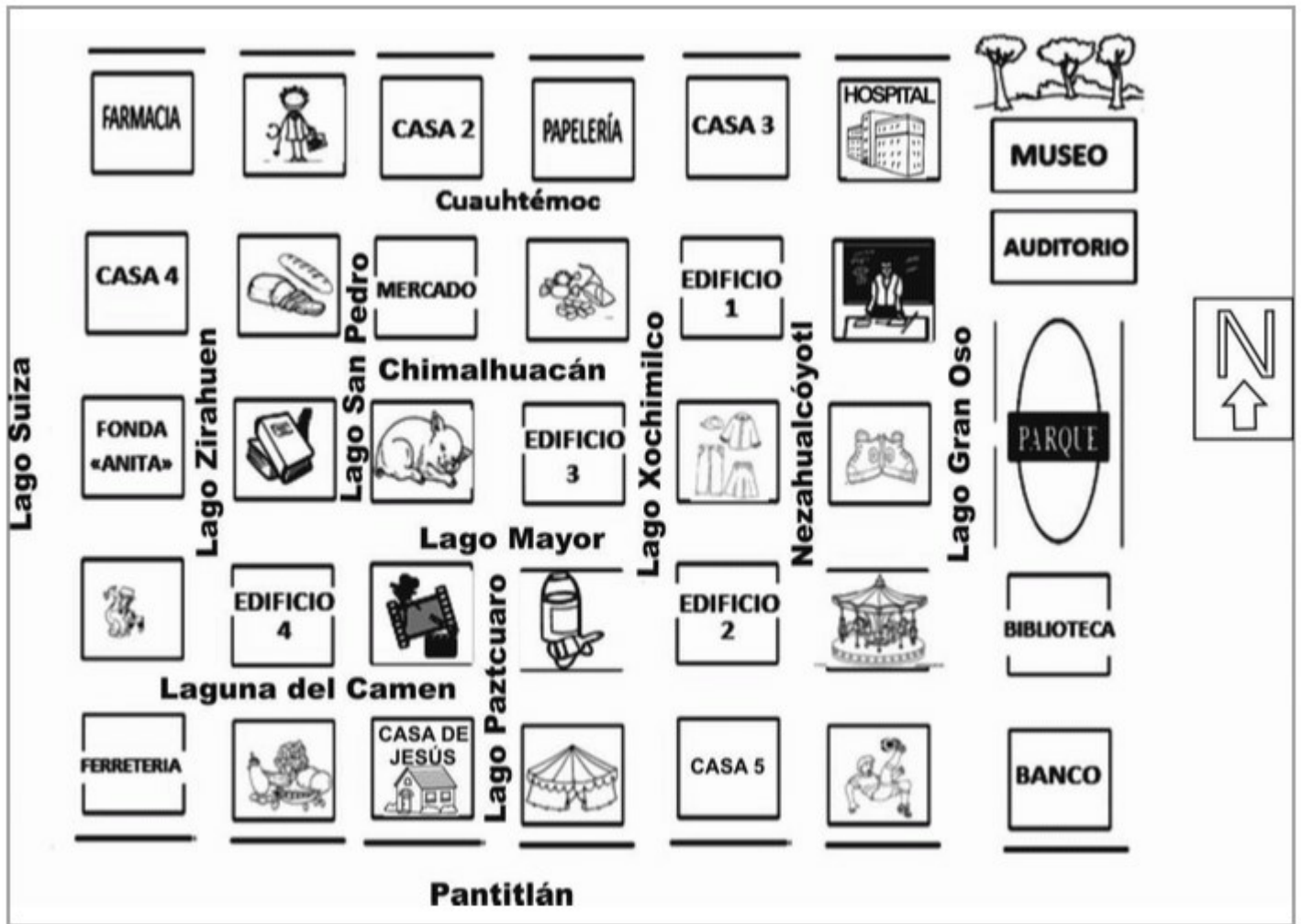
¿QUÉ SITIOS DE INTERES ENCONTRAMOS A 4 CUADRAS AL ESTE DE LA CASA DE JESÚS?



RESPUESTA: _____

NOMBRE: _____

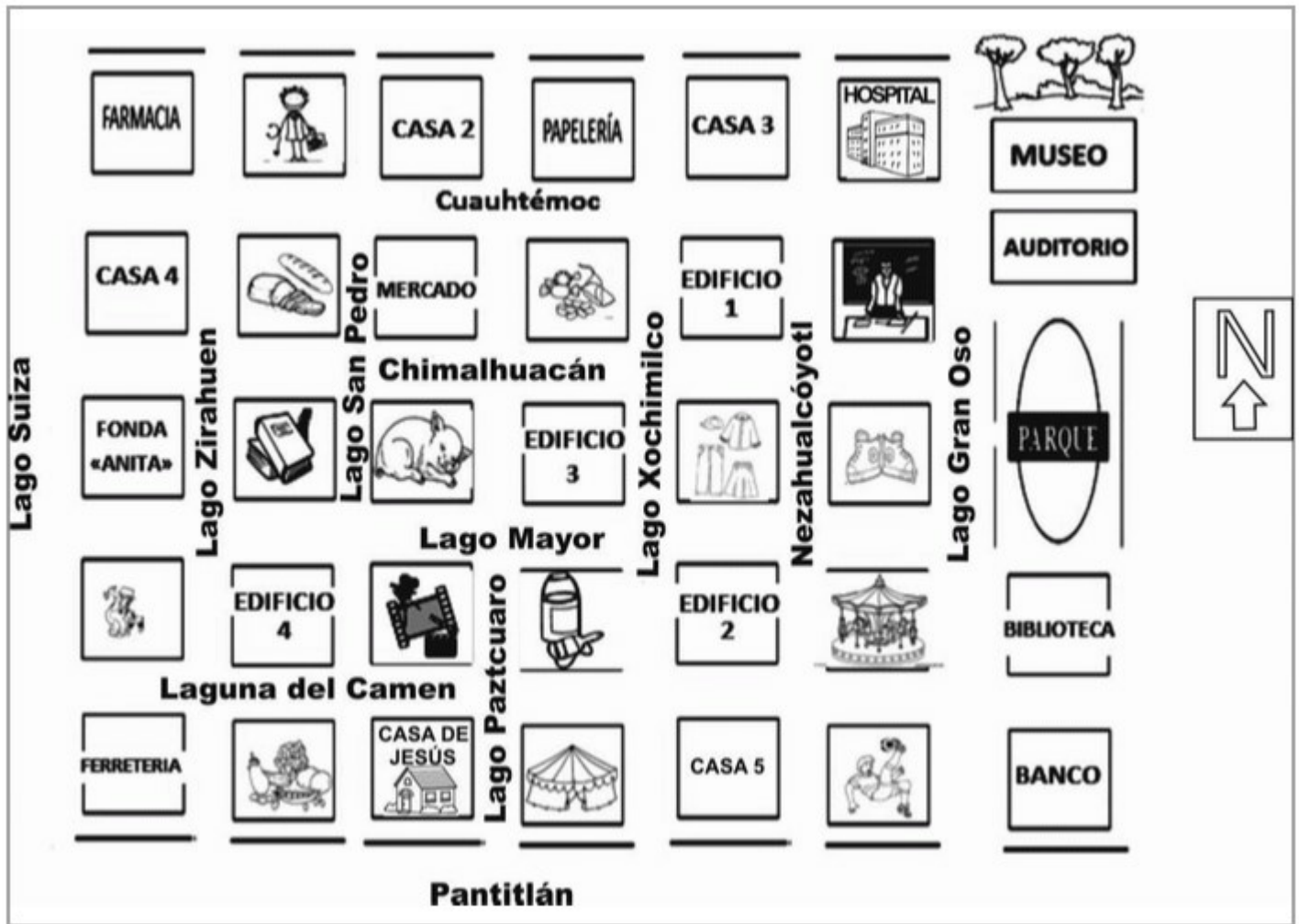
SI DE LA CASA DE JESÚS CAMINÓ 3 CUADRAS AL NORTE Y DOY VUELTA EN LA CALLE CUAUHTÉMOC Y CAMINO 2 CUADRAS AL ESTE LLEGO AL...



RESPUESTA: _____

NOMBRE: _____

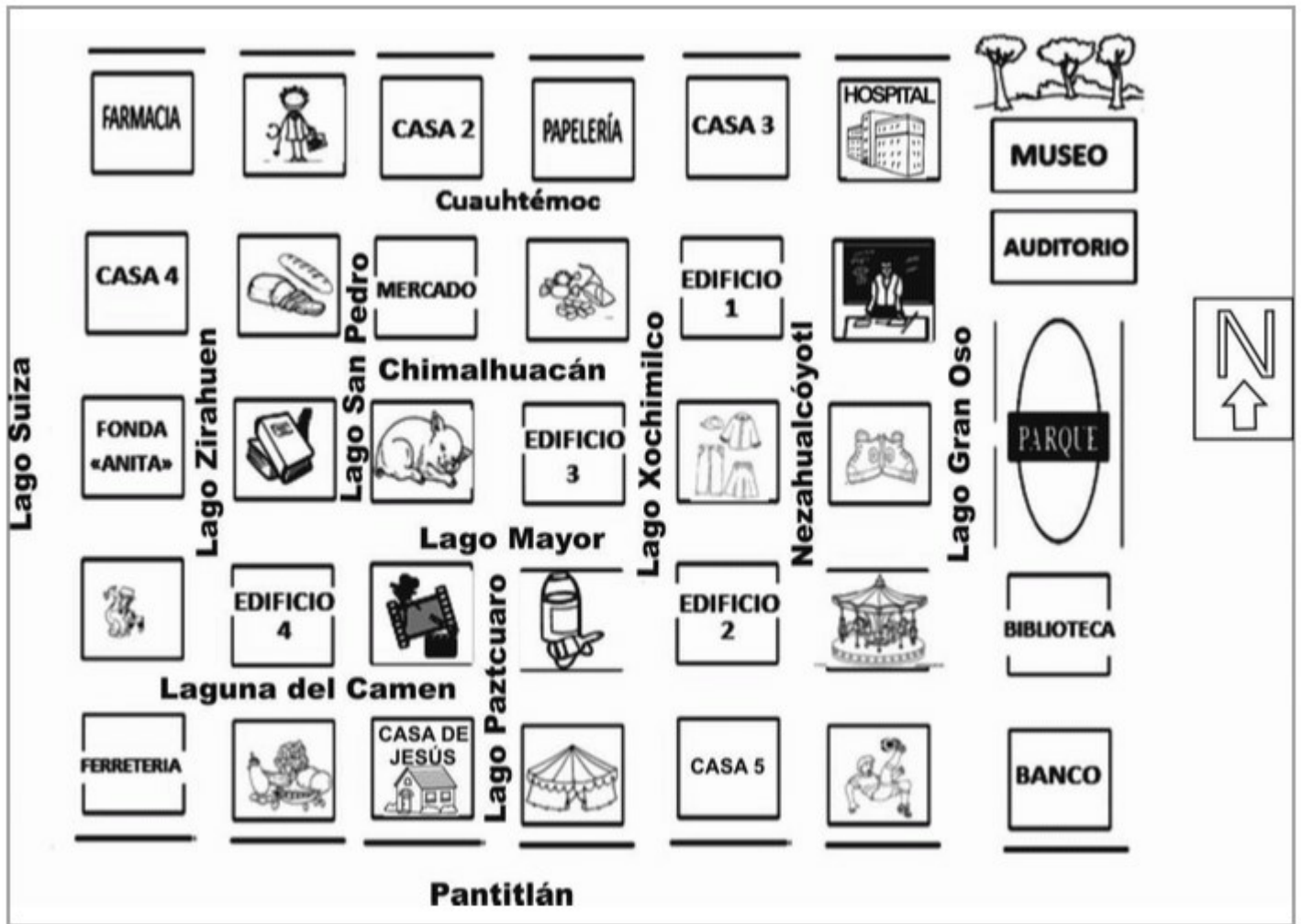
LA TIENDA DE PINTURAS SE ENCUENTRA EN LAS CALLES LAGUNA DEL CARMEN Y ...



RESPUESTA: _____

NOMBRE: _____

CONSIDERANDO LA CASA 2 ¿HACIA QUÉ PUNTO CARDINAL SE ENCUENTRA LA CASA DE JESÚS?



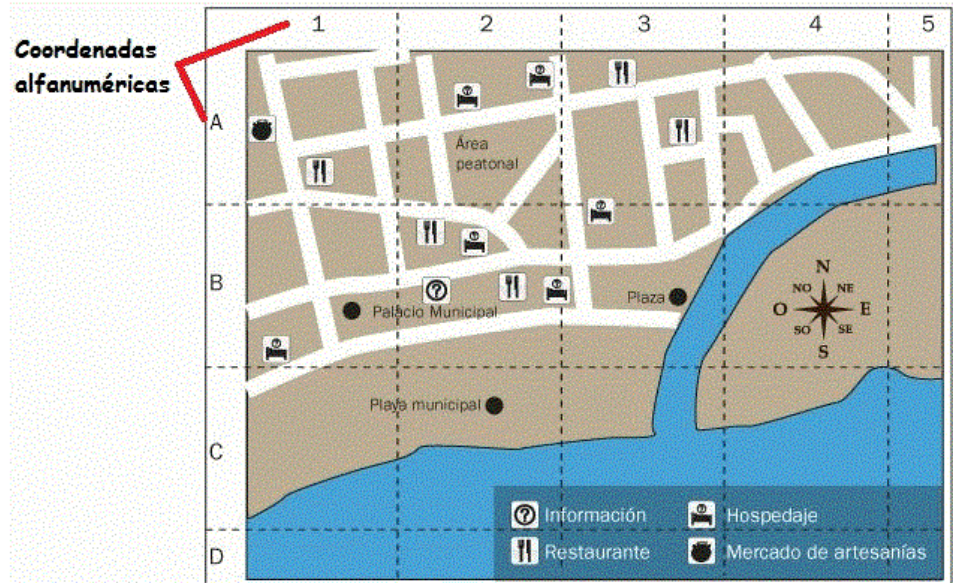
RESPUESTA: _____

NOMBRE:

LEE CON ATENCIÓN

Coordenadas alfanuméricas

Para ubicar con precisión un lugar en un plano se utiliza una cuadrícula con coordenadas alfanuméricas



Un sistema de coordenadas alfanuméricas es una cuadrícula de referencia con líneas horizontales y verticales que combinan números y letras que se anotan en los márgenes de un plano, y que hacen referencia a una superficie contenida en un cuadro de dicha cuadrícula.

NOMBRE: _____

¿QUÉ LUGAR DE INTERES SE UBICA EN LA COORDENADA
(4 C)?



RESPUESTA: _____

NOMBRE: _____

¿QUÉ LUGAR DE INTERES SE UBICA EN LA COORDENADA (1 A)?



RESPUESTA: _____

NOMBRE: _____

¿QUÉ LUGAR DE INTERES SE UBICA EN LA COORDENADA (6 D)?



RESPUESTA: _____

NOMBRE: _____

¿QUÉ LUGAR DE INTERES SE UBICA EN LA COORDENADA (4 E)?



RESPUESTA: _____

NOMBRE: _____

¿QUÉ LUGAR DE INTERES SE UBICA EN LA COORDENADA (5 B)?



RESPUESTA: _____

NOMBRE: _____

¿QUÉ LUGAR DE INTERES SE UBICA EN LA COORDENADA (4 A)?



RESPUESTA: _____

NOMBRE: _____

¿QUÉ LUGAR DE INTERES SE UBICA EN LA COORDENADA (6 E)?



RESPUESTA: _____

NOMBRE: _____

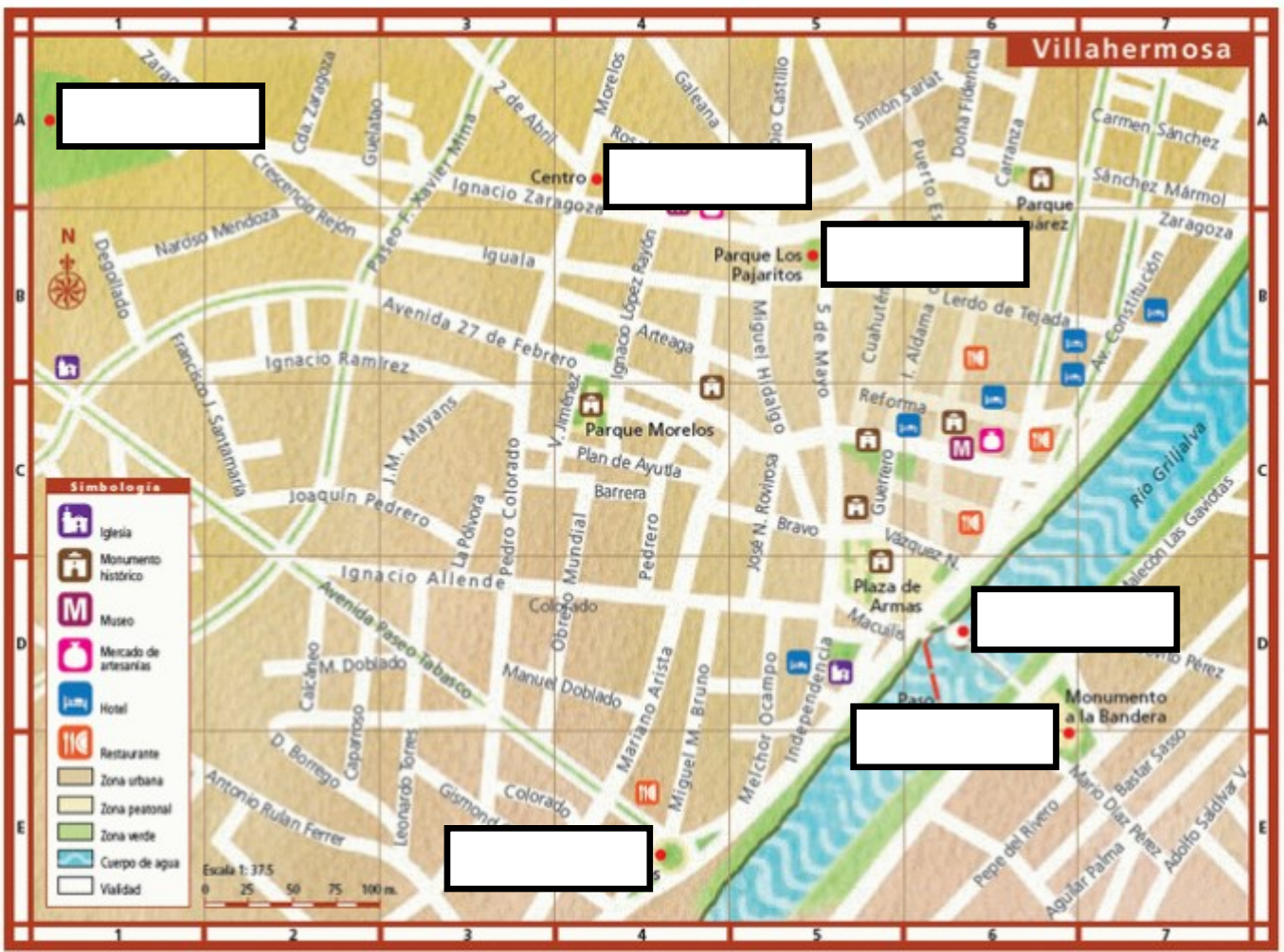
¿QUÉ LUGAR DE INTERES SE UBICA EN LA COORDENADA (6 E)?



RESPUESTA: _____

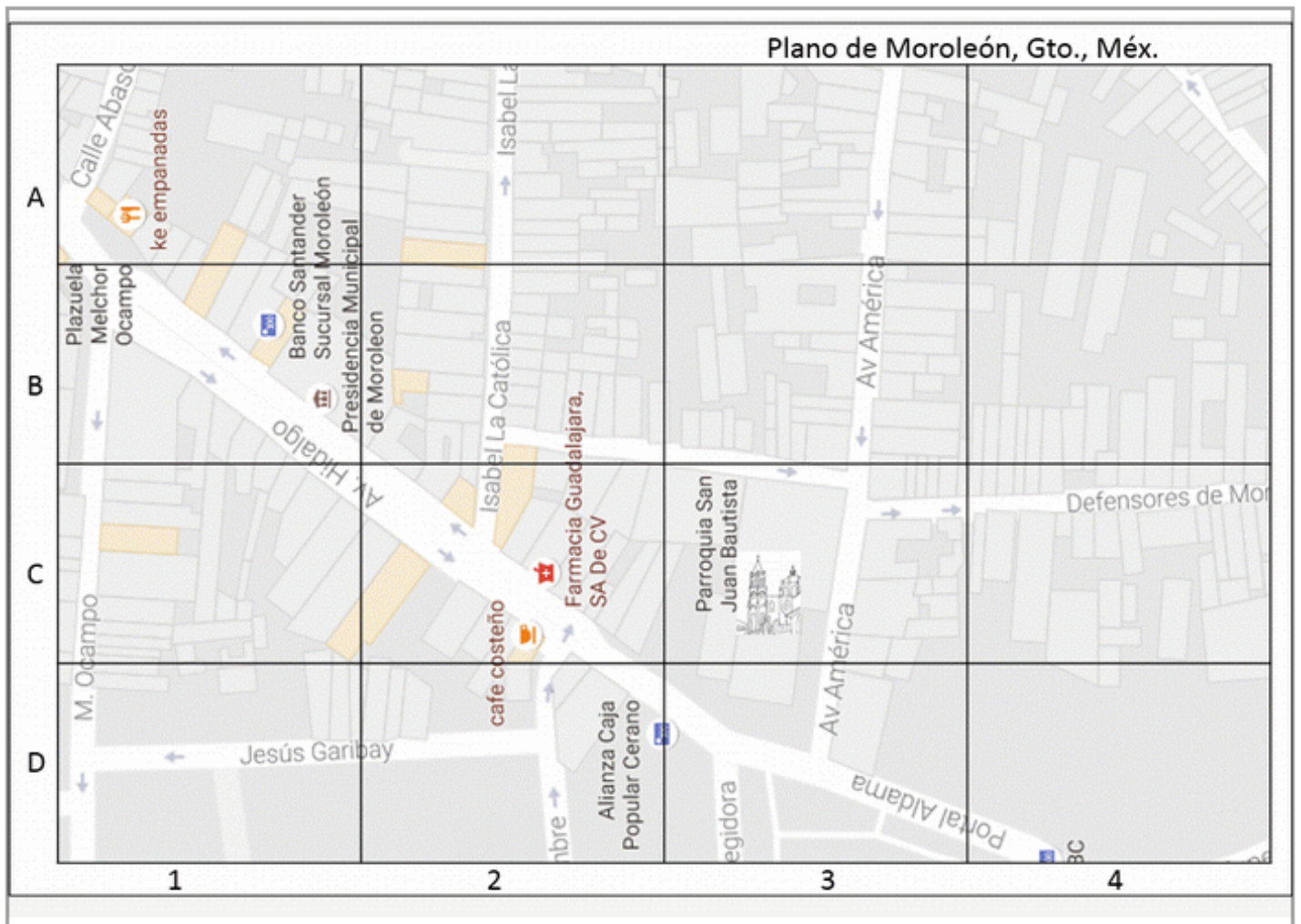
NOMBRE: _____

ESCRIBE LAS COORDENADAS ALFANUMÉRICAS DONDE SE UBICAN LOS PUNTOS ROJOS



NOMBRE: _____

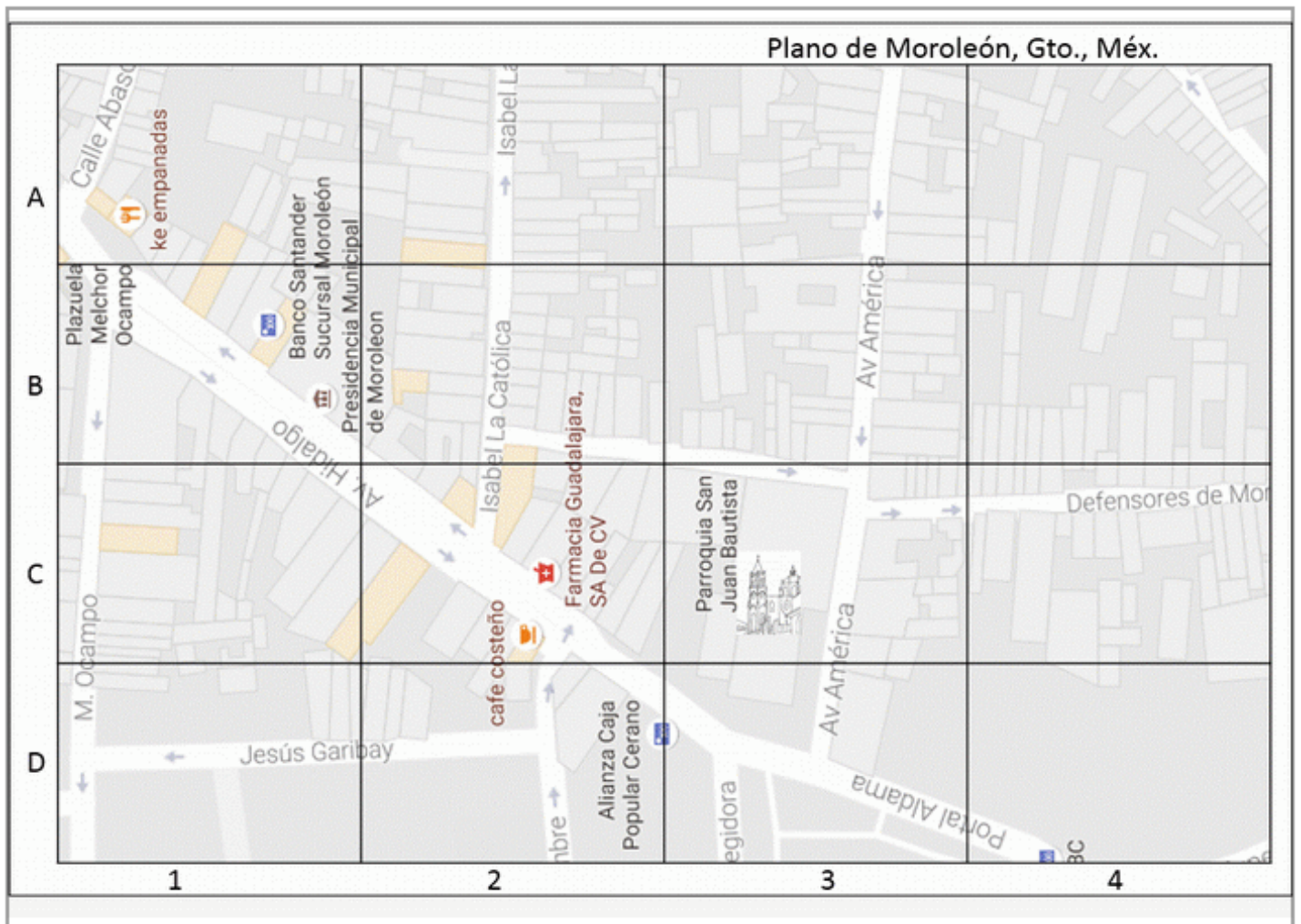
¿EN QUÉ COORDENADAS SE UBICA LA PARROQUIA DE SAN JUAN BAUTISTA?



RESPUESTA: _____

NOMBRE: _____

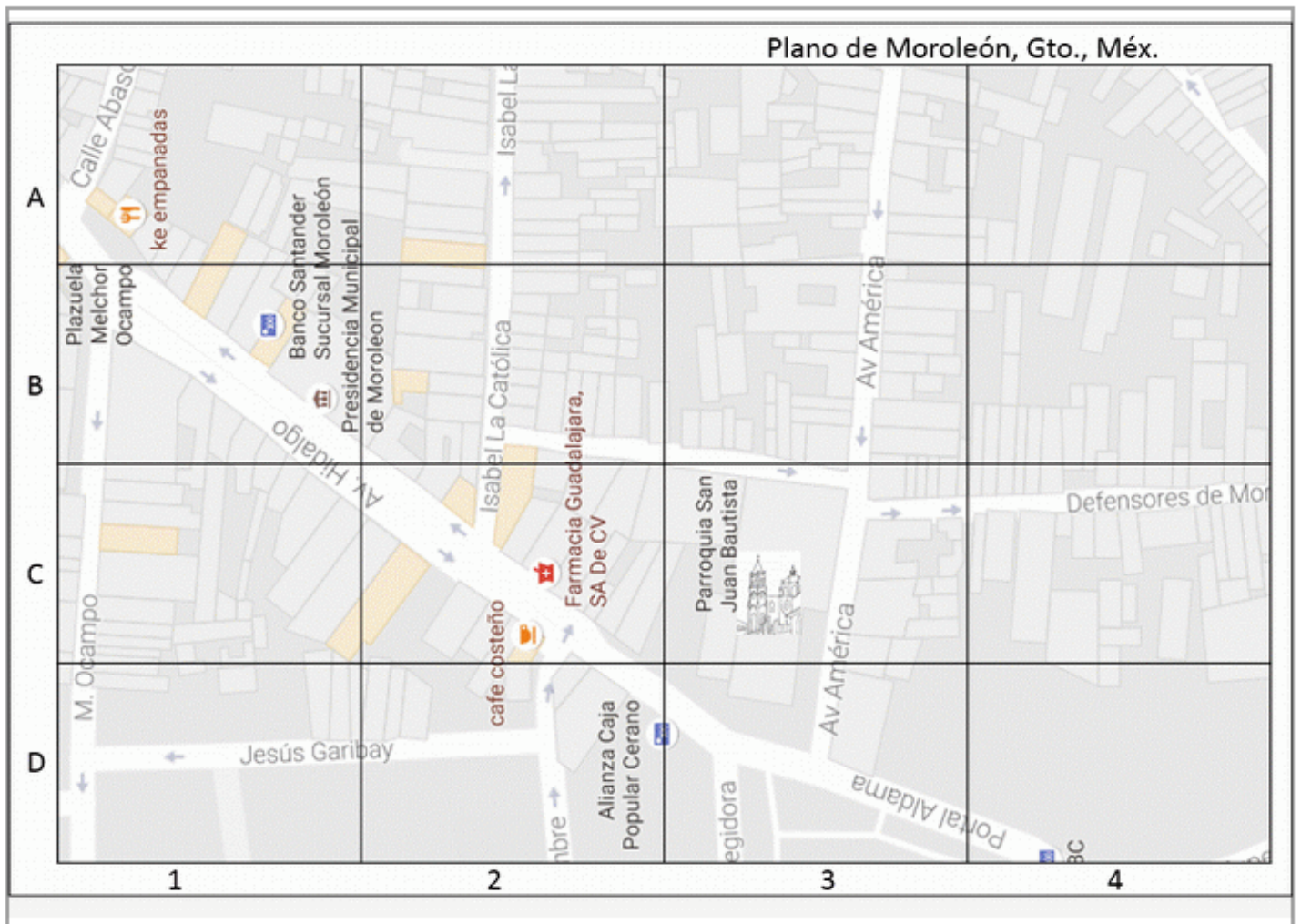
¿EN QUÉ COORDENADAS SE UBICA LA PRESIDENCIA MUNICIPAL?



RESPUESTA: _____

NOMBRE: _____

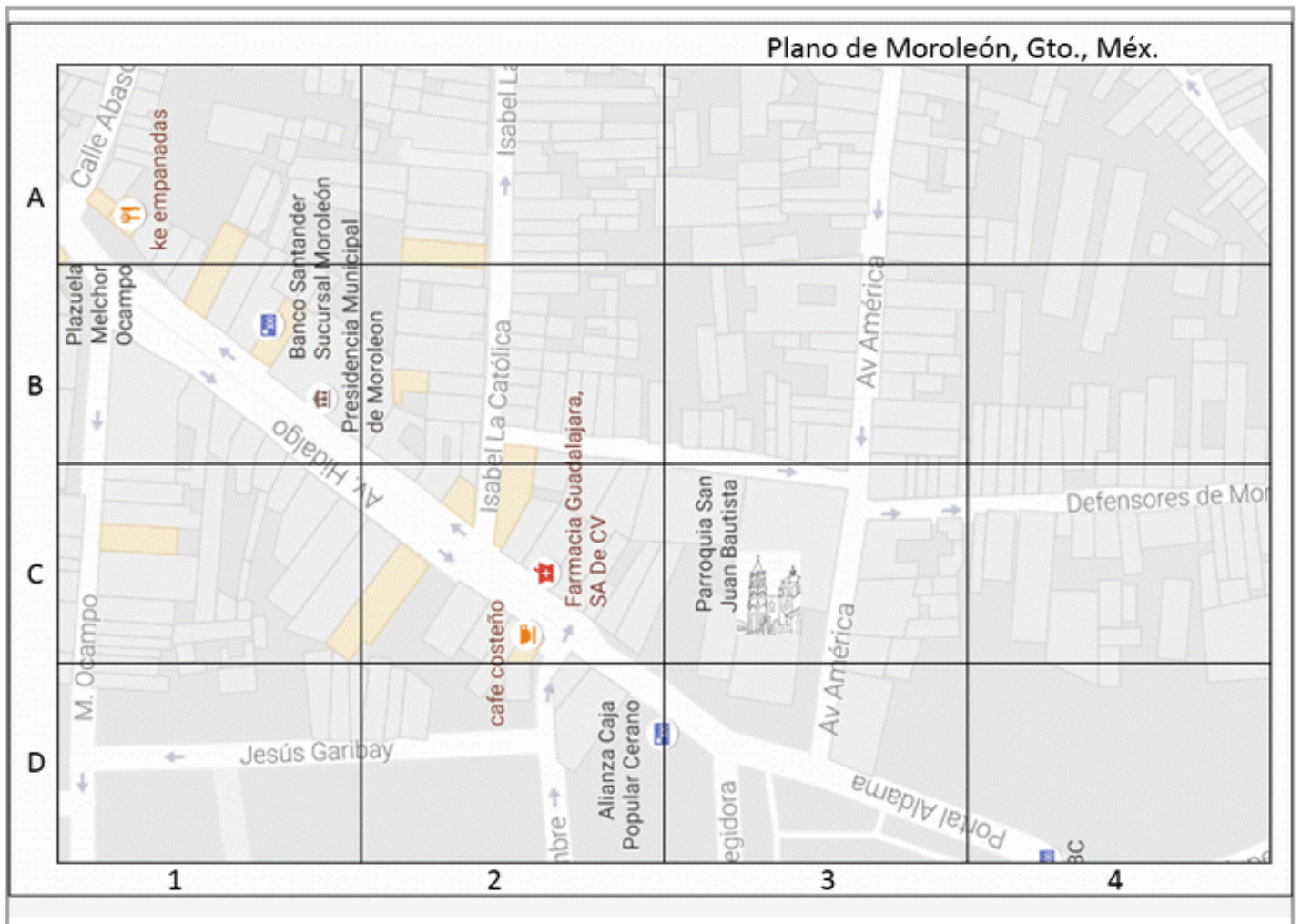
¿EN QUÉ COORDENADAS SE UBICA EL CAFÉ COSTEÑO?



RESPUESTA: _____

NOMBRE: _____

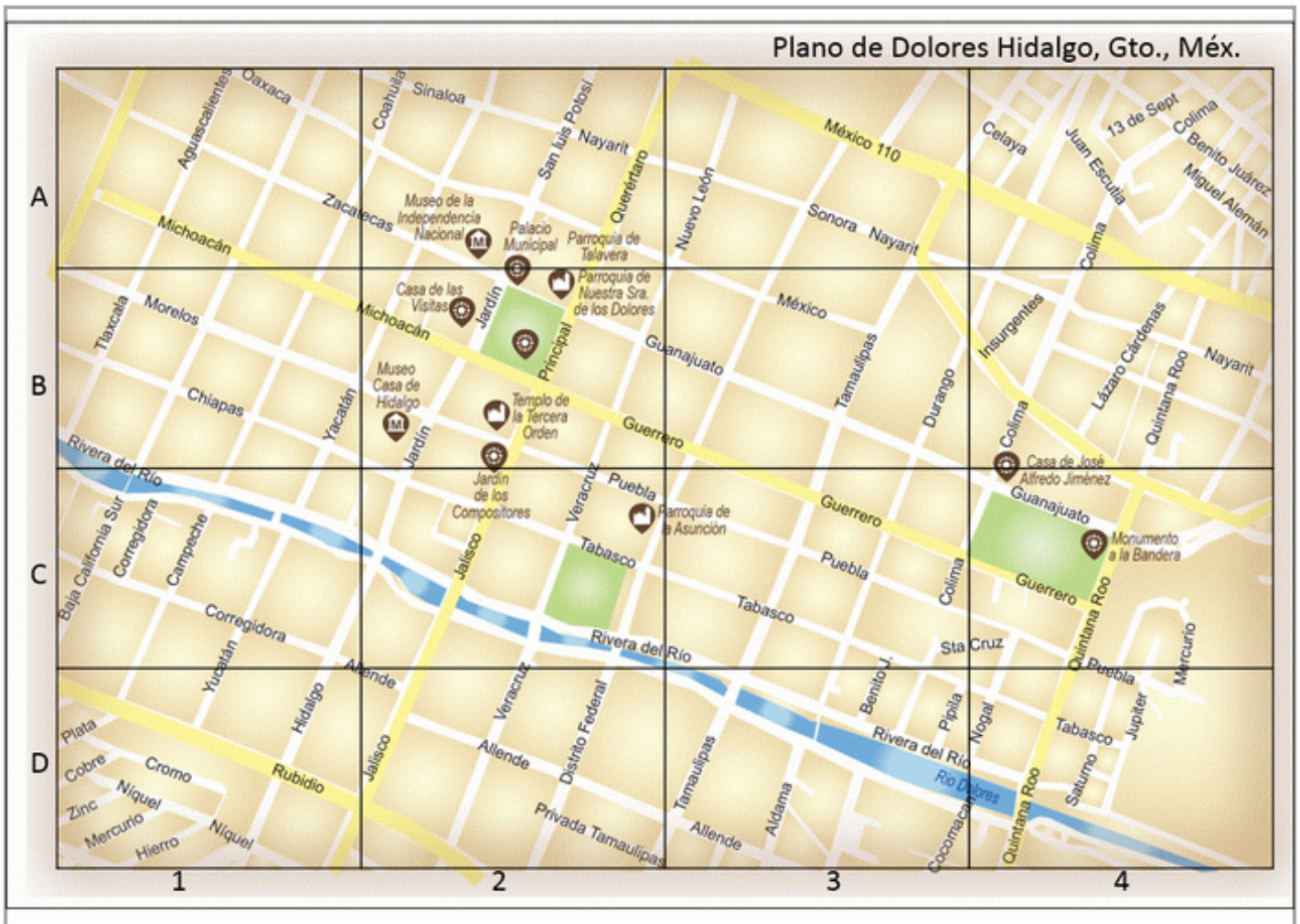
¿EN QUÉ COORDENADAS SE UBICA EL RESTAURANTE KE EMPANADAS?



RESPUESTA: _____

NOMBRE: _____

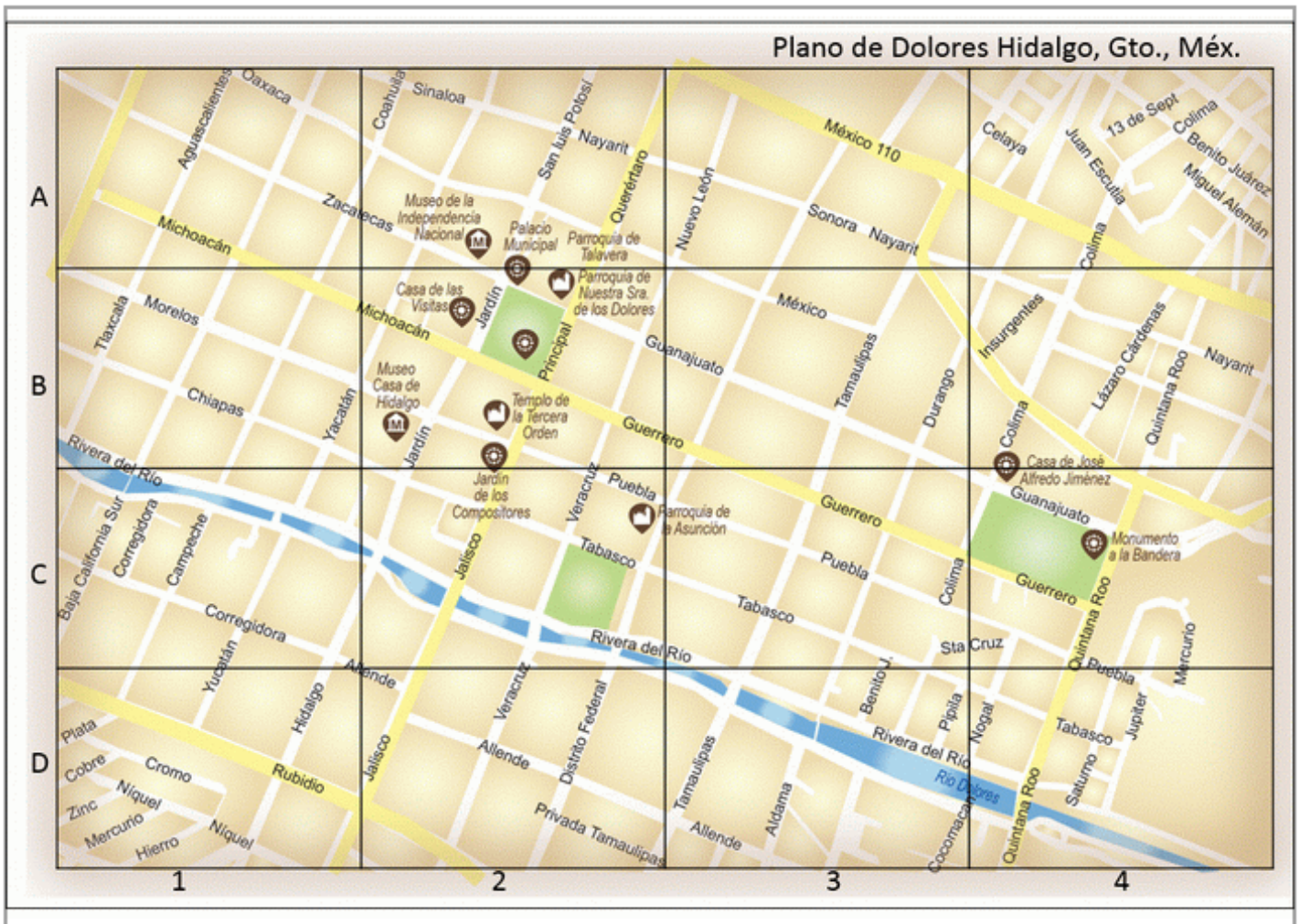
¿EN QUÉ COORDENADAS SE UBICA EL MUSEO CASA DE HIDALGO?



RESPUESTA: _____

NOMBRE: _____

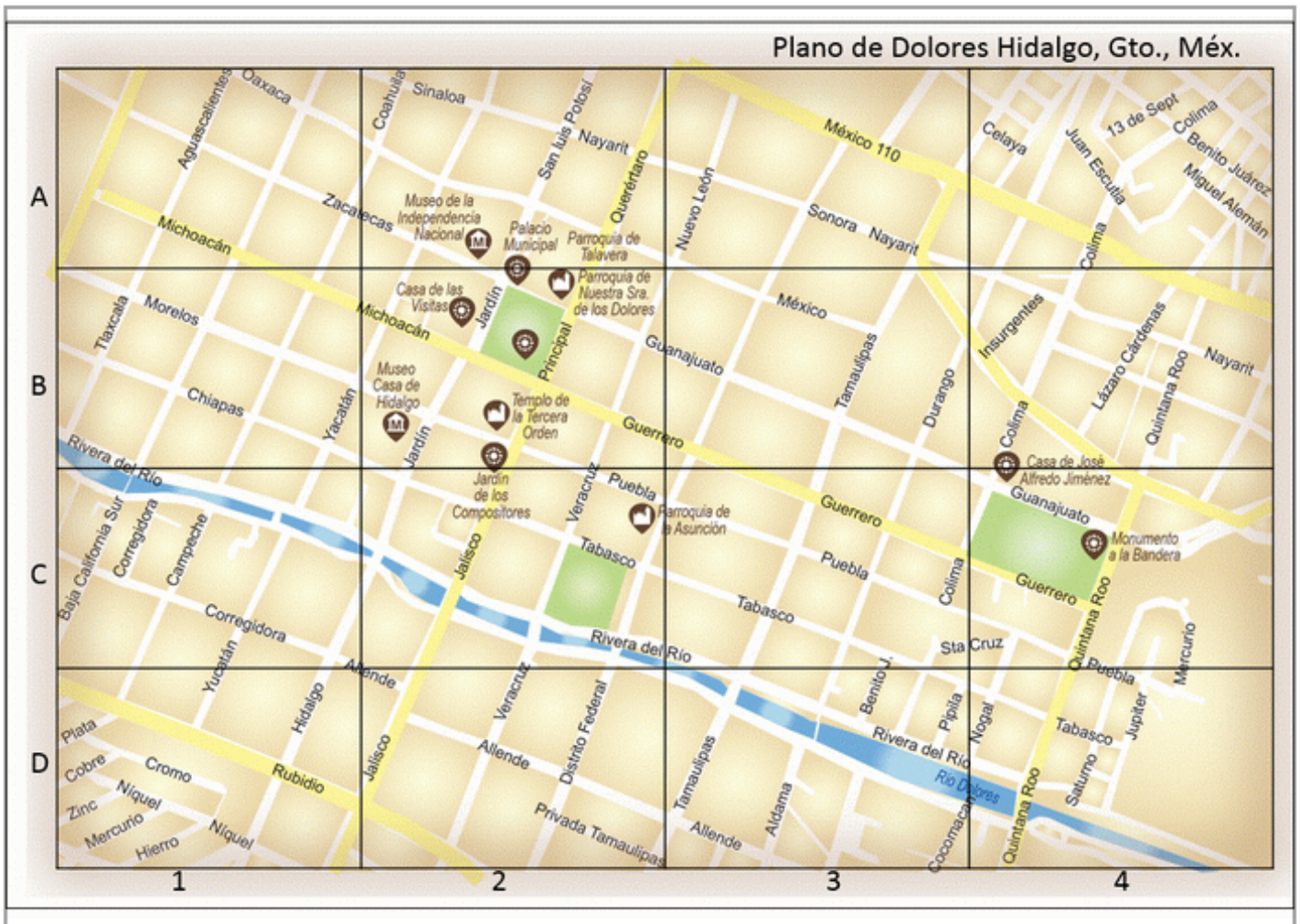
¿EN QUÉ COORDENADAS SE UBICA MONUMENTO A LA BANDERA?



RESPUESTA: _____

NOMBRE: _____

¿EN QUÉ COORDENADAS SE UBICA EL MUSEO DE LA INDEPENDENCIA NACIONAL



RESPUESTA: _____

NOMBRE:



VISITA



ChannelKIDS
innovando en un clic

VISITA

[HTTP://CHANNELKIDS.COM](http://channelkids.com)

PARA MAS MATERIAL GRATUITO