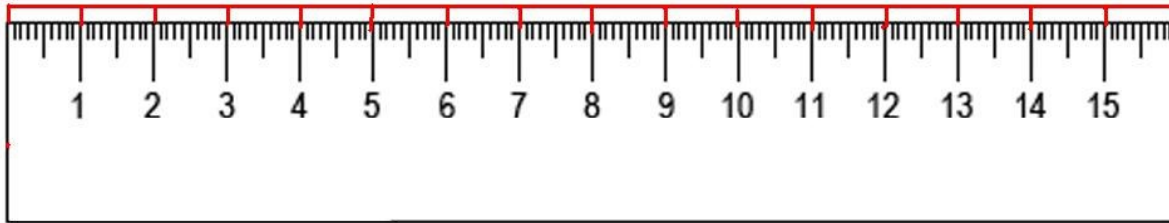


CENTÍMETROS



LEE CON ATENCIÓN Y RECUÉRDALO

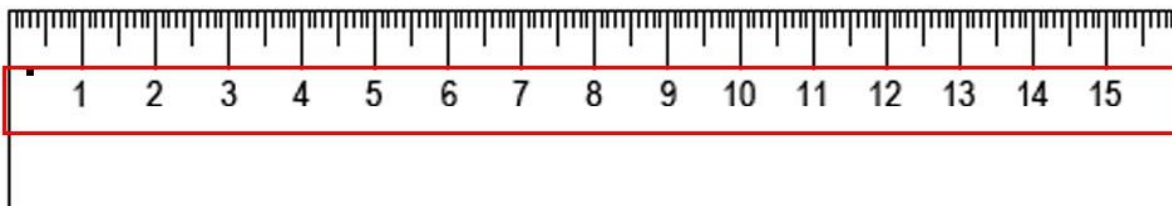
La regla tiene unos espacios iguales con unos números



Cada uno de estos espacios se llama centímetro.



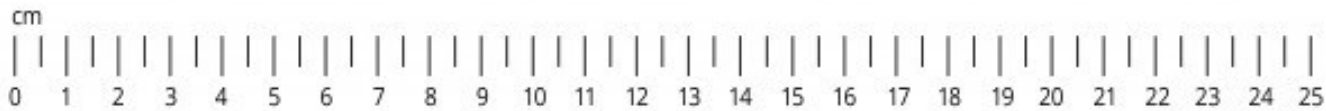
En esta regla van numerados del 1 al 15



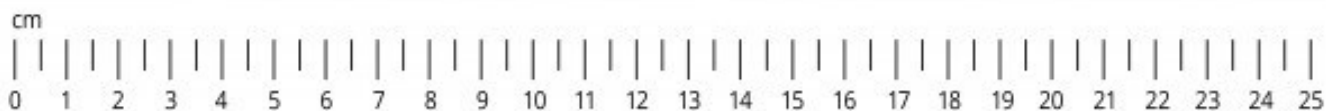
ESCRIBE LAS MEDIDAS DE LOS SIGUIENTES DIBUJOS




¿Cuánto mide? _____ cm.




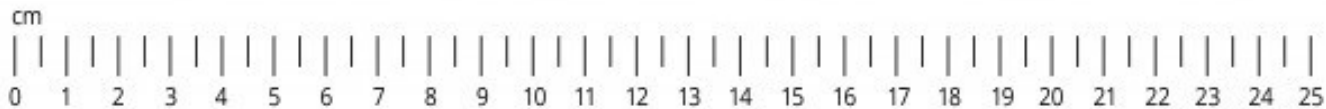
¿Cuánto mide? _____ cm.



ESCRIBE LAS MEDIDAS DE LOS SIGUIENTES DIBUJOS



¿Cuánto mide? _____ cm.




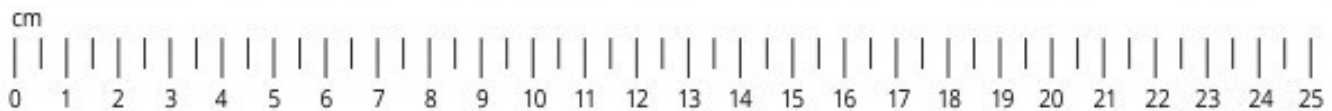
¿Cuánto mide? _____



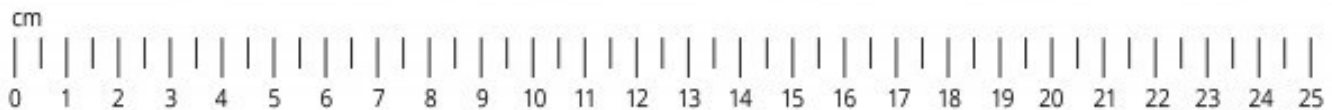
ESCRIBE LAS MEDIDAS DE LOS SIGUIENTES DIBUJOS



¿Cuánto mide? _____ cm.



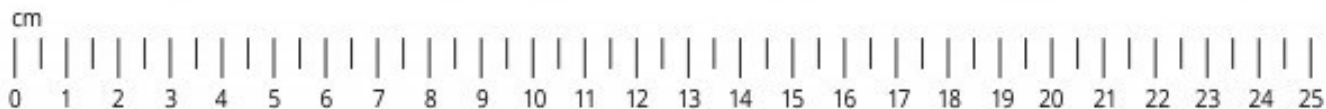
¿Cuánto mide? _____ cm.



ESCRIBE LAS MEDIDAS DE LOS SIGUIENTES DIBUJOS



¿Cuánto mide? _____ cm.



¿Cuánto mide? _____ cm.



**MIDE LAS SIGUIENTES LÍNEAS AZULES CON
TU REGLAS Y ESCRIBE LAS MEDIDAS**



¿Cuánto mide esta línea? _____ cm.



¿Cuánto mide esta línea? _____ cm.



¿Cuánto mide esta línea? _____ cm.



¿Cuánto mide esta línea? _____ cm.

**MIDE LAS SIGUIENTES LÍNEAS AZULES CON
TU REGLAS Y ESCRIBE LAS MEDIDAS**



¿Cuánto mide esta línea? _____ cm.



¿Cuánto mide esta línea? _____ cm.



¿Cuánto mide esta línea? _____ cm.



¿Cuánto mide esta línea? _____ cm.

**MIDE LAS SIGUIENTES LÍNEAS AZULES CON
TU REGLAS Y ESCRIBE LAS MEDIDAS**



¿Cuánto mide esta línea? _____ cm.



¿Cuánto mide esta línea? _____ cm.



¿Cuánto mide esta línea? _____ cm.



¿Cuánto mide esta línea? _____ cm.

**MIDE LAS SIGUIENTES LÍNEAS AZULES CON
TU REGLAS Y ESCRIBE LAS MEDIDAS**



¿Cuánto mide esta línea? _____ cm.



¿Cuánto mide esta línea? _____ cm.



¿Cuánto mide esta línea? _____ cm.



¿Cuánto mide esta línea? _____ cm.


CREDITOS



Font Meme



ELABORADO POR:



ChannelKIDS
innovando en un clic



ChannelKIDS
innovando en un clic