

ELABORADO POR Toni Miquel Mollà, CP Crist de la Pau Sant Joan d'Alacant  
(Alacantí), PARA CLIC 3.0

ADAPTADO PARA SU USO IMPRESO POR CHANNELKIDS.COM

# SERIES NUMÉRICAS



ChannelKIDS

Innovando en un clic

# SERIES NUMÉRICAS



ChannelKIDS  
innovando en un clic

NOMBRE: \_\_\_\_\_

Calcula y escribe los números que faltan en las series

$4+4$  —  —  $+5$  —  —  $+2$  —  —  $+5$  —

$+2$  —  —  $+6$  —  —  $+5$  —  —  $+7$  —

$+5$  —  —  $+10$  —  —  $+5$  —  —  $+10$  —

$5+5$  —  —  $+8$  —  —  $+3$  —  —  $+4$  —

$+5$  —  —  $+7$  —  —  $+7$  —  —  $+6$  —

$+9$  —  —  $+5$  —  —  $+4$  —  —  $+7$  —

# SERIES NUMÉRICAS



ChannelKIDS  
innovando en un clic

NOMBRE: \_\_\_\_\_

Calcula y escribe los números que faltan en las series

$3+3$  —  —  $+4$  —  —  $+5$  —  —  $+6$  —

$+4$  —  —  $+5$  —  —  $+7$  —  —  $+5$  —

$+6$  —  —  $+10$  —  —  $+8$  —  —  $+9$  —

$7+1$  —  —  $+8$  —  —  $+4$  —  —  $+7$  —

$+3$  —  —  $+6$  —  —  $+3$  —  —  $+6$  —

$+5$  —  —  $+10$  —  —  $+8$  —  —  $+8$  —

# SERIES NUMÉRICAS



ChannelKIDS  
innovando en un clic

NOMBRE: \_\_\_\_\_

Calcula y escribe los números que faltan en las series

$5+4$  —  —  $+6$  —  —  $+5$  —  —  $+9$  —

$+6$  —  —  $+7$  —  —  $+7$  —  —  $+9$  —

$+8$  —  —  $+4$  —  —  $+15$  —  —  $+15$  —

$70-4$  —  —  $-6$  —  —  $-5$  —  —  $-10$  —

$-7$  —  —  $-7$  —  —  $-4$  —  —  $-6$  —

$-3$  —  —  $-6$  —  —  $-8$  —  —  $-4$  —

# SERIES NUMÉRICAS



ChannelKIDS  
innovando en un clic

NOMBRE: \_\_\_\_\_

Calcula y escribe los números que faltan en las series

$90-1$    $-9$    $-5$    $-4$

$-6$    $-7$    $-8$    $-10$

$-20$    $-4$    $-8$    $-7$

$88-1$    $-6$    $-3$    $-8$

$-15$    $-6$    $-9$    $-10$

$-9$    $-6$    $-8$    $-5$

# SERIES NUMÉRICAS



ChannelKIDS  
innovando en un clic

NOMBRE: \_\_\_\_\_

Calcula y escribe los números que faltan en las series

$70-1$  —  —  $-7$  —  —  $-5$  —  —  $-3$  —

$-4$  —  —  $-5$  —  —  $-6$  —  —  $-8$  —

$-5$  —  —  $-7$  —  —  $-3$  —  —  $-3$  —

$81-1$  —  —  $-8$  —  —  $-6$  —  —  $-5$  —

$-4$  —  —  $-5$  —  —  $-6$  —  —  $-10$  —

$-7$  —  —  $-3$  —  —  $-5$  —  —  $-2$  —

# SERIES NUMÉRICAS



ChannelKIDS  
innovando en un clic

NOMBRE: \_\_\_\_\_

Calcula y escribe los números que faltan en las series

$5+7$  —  —  $+8$  —  —  $-5$  —  —  $+10$  —

$+9$  —  —  $+6$  —  —  $+20$  —  —  $-15$  —

$+20$  —  —  $-5$  —  —  $+20$  —  —  $-5$  —

$7+7$  —  —  $-4$  —  —  $+10$  —  —  $+9$  —

$-8$  —  —  $+7$  —  —  $+8$  —  —  $-5$  —

$+9$  —  —  $+20$  —  —  $-8$  —  —  $-7$  —

# SERIES NUMÉRICAS



ChannelKIDS  
innovando en un clic

NOMBRE: \_\_\_\_\_

Calcula y escribe los números que faltan en las series

$9+9$  —  —  $-8$  —  —  $+9$  —  —  $+9$  —

$-7$  —  —  $+8$  —  —  $+11$  —  —  $+20$  —

$+15$  —  —  $-10$  —  —  $-10$  —  —  $+15$  —

$8+8$  —  —  $-4$  —  —  $+8$  —  —  $+9$  —

$+6$  —  —  $-15$  —  —  $+30$  —  —  $-25$  —

$+11$  —  —  $+5$  —  —  $-6$  —  —  $+15$  —



# SERIES NUMÉRICAS



ChannelKIDS  
innovando en un clic

NOMBRE: \_\_\_\_\_

Calcula y escribe los números que faltan en las series

$17-7$  —  —  $+8$  —  —  $-6$  —  —  $+5$  —

$+8$  —  —  $+10$  —  —  $-15$  —  —  $+20$  —

$-30$  —  —  $+25$  —  —  $+15$  —  —  $+25$  —

$9 \times 4$  —  —  $:2$  —  —  $:3$  —  —  $\times 4$  —

$:2$  —  —  $\times 3$  —  —  $:4$  —  —  $\times 2$  —

$:6$  —  —  $\times 5$  —  —  $\times 2$  —  —  $\times 3$  —

# SERIES NUMÉRICAS



ChannelKIDS  
innovando en un clic

NOMBRE: \_\_\_\_\_

Calcula y escribe los números que faltan en las series

$7 \times 4$  —  —  $: 2$  —  —  $: 7$  —  —  $\times 9$  —

$\times 2$  —  —  $: 3$  —  —  $\times 4$  —  —  $: 8$  —

$\times 7$  —  —  $: 2$  —  —  $: 7$  —  —  $\times 15$  —

$6 \times 8$  —  —  $: 2$  —  —  $: 8$  —  —  $\times 6$  —

$\times 2$  —  —  $: 6$  —  —  $\times 9$  —  —  $: 2$  —

$: 3$  —  —  $\times 8$  —  —  $: 2$  —  —  $\times 2$  —

# SERIES NUMÉRICAS



ChannelKIDS  
innovando en un clic

NOMBRE: \_\_\_\_\_

Calcula y escribe los números que faltan en las series

$8 \times 8$  —  —  $: 2$  —  —  $: 4$  —  —  $\times 5$  —

$\times 3$  —  —  $: 10$  —  —  $\times 5$  —  —  $\times 3$  —

$: 10$  —  —  $\times 2$  —  —  $\times 2$  —  —  $: 9$  —

$81 : 9$  —  —  $\times 4$  —  —  $\times 2$  —  —  $: 9$  —

$\times 6$  —  —  $\times 2$  —  —  $: 12$  —  —  $\times 4$  —

$: 2$  —  —  $\times 5$  —  —  $\times 3$  —  —  $: 24$  —

# SERIES NUMÉRICAS



ChannelKIDS  
innovando en un clic

NOMBRE: \_\_\_\_\_

Calcula y escribe los números que faltan en las series

$7 \times 2$  —  —  $\times 2$  —  —  $- 3$  —  —  $: 5$  —

$\times 9$  —  —  $+ 5$  —  —  $: 10$  —  —  $\times 7$  —

$- 15$  —  —  $\times 3$  —  —  $: 2$  —  —  $\times 5$  —

$9 \times 9$  —  —  $- 11$  —  —  $\times 2$  —  —  $: 10$  —

$\times 2$  —  —  $: 7$  —  —  $\times 15$  —  —  $+ 30$  —

$- 15$  —  —  $: 3$  —  —  $+ 30$  —  —  $: 5$  —

# SERIES NUMÉRICAS



ChannelKIDS  
innovando en un clic

NOMBRE: \_\_\_\_\_

Calcula y escribe los números que faltan en las series

$7 \times 8$  —  —  $+14$  —  —  $:2$  —  —  $+15$  —

$\times 3$  —  —  $:2$  —  —  $:3$  —  —  $\times 4$  —

$:4$  —  —  $+15$  —  —  $+45$  —  —  $-15$  —

$7 \times 5$  —  —  $+5$  —  —  $:5$  —  —  $\times 7$  —

$+4$  —  —  $\times 2$  —  —  $:4$  —  —  $+12$  —

$:6$  —  —  $\times 9$  —  —  $+17$  —  —  $+20$  —

# SERIES NUMÉRICAS



ChannelKIDS  
innovando en un clic

NOMBRE: \_\_\_\_\_

Calcula y escribe los números que faltan en las series

$72:8$  —  —  $+6$  —  —  $\times 3$  —  —  $+15$  —

$\times 3$  —  —  $+20$  —  —  $:4$  —  —  $:5$  —

$+15$  —  —  $\times 5$  —  —  $-30$  —  —  $-30$  —

$7$  —   $10$  —  —   $18$  —  —   $14$  —  —   $21$

—   $27$  —  —   $19$  —  —   $30$  —  —   $8$

—   $26$  —  —   $35$  —  —   $20$  —  —   $50$


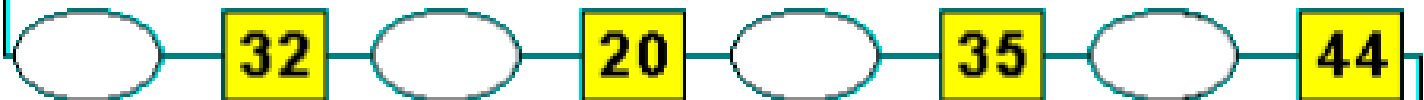
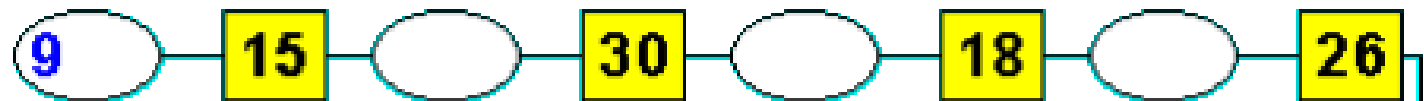
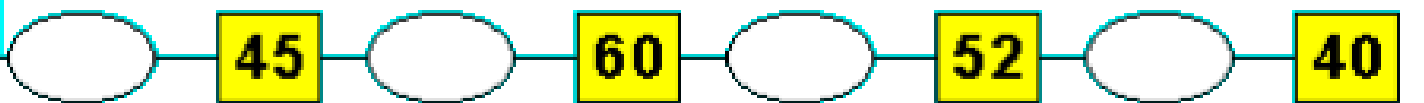
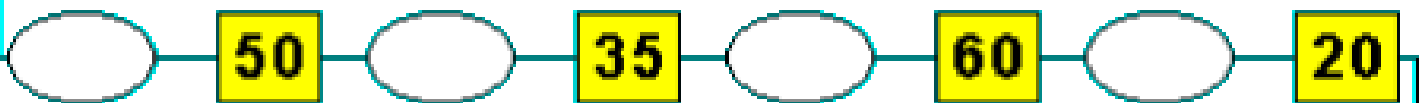
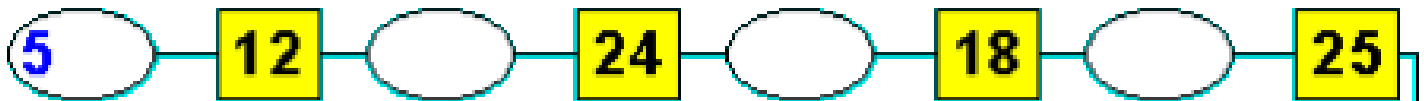
# SERIES NUMÉRICAS



ChannelKIDS  
innovando en un clic

NOMBRE: \_\_\_\_\_

Calcula y escribe los números que faltan en las series



# SERIES NUMÉRICAS



ChannelKIDS  
innovando en un clic

NOMBRE: \_\_\_\_\_

Calcula y escribe los números que faltan en las series

3 — 12 —  — 24 —  — 6 —  — 30

— 60 —  — 20 —  — 4 —  — 36

— 18 —  — 3 —  — 24 —  — 12

6 — 48 —  — 24 —  — 12 —  — 48

— 16 —  — 4 —  — 80 —  — 8

— 64 —  — 32 —  — 4 —  — 100



# SERIES NUMÉRICAS

NOMBRE:



VISITA



ChannelKIDS  
innovando en un clic

VISITA

[HTTP://CHANNELKIDS.COM](http://channelkids.com)

PARA MAS MATERIAL GRATUITO