


MEDIDAS DE LONGITUD

NIVEL BÁSICO



ChannelKIDS
innovando en un clic



Medidas de longitud, fue desarrollado por “Tutor Cbit. Jairo Cáceres. Cbit Monseñor DuqueAv. Principal de la Comunidad Mesa Seca. Ejido, Mérida - Venezuela.”, para CLIC 3.0 y rediseñado para su uso impreso por CHANNELKIDS.

Este cuadernillo tiene como finalidad enriquecer, las habilidades del menor con actividades sencillas y divertidas.

Si te gusta este cuadernillo compártelo es gratuito.

Solo visita **CHANNELKIDS.COM** y recomiéndanos.

Lee con atención

¿Para qué utilizamos el metro?

El metro es empleado para medir el largo, ancho, y la altura de las cosas, es decir el metro se utiliza para conocer **longitudes**.

Las personas que utilizan el metro, son: El sastre, el albañil, el carpintero, el arquitecto.



¿Qué se mide con el metro?

Telas, cintas, cables, mecates, papel, terrenos, espacios.

Podrás observar que el metro viene en diferentes presentaciones, y que de acuerdo a lo que se quiera medir se utilizan los diferentes tipos de metro

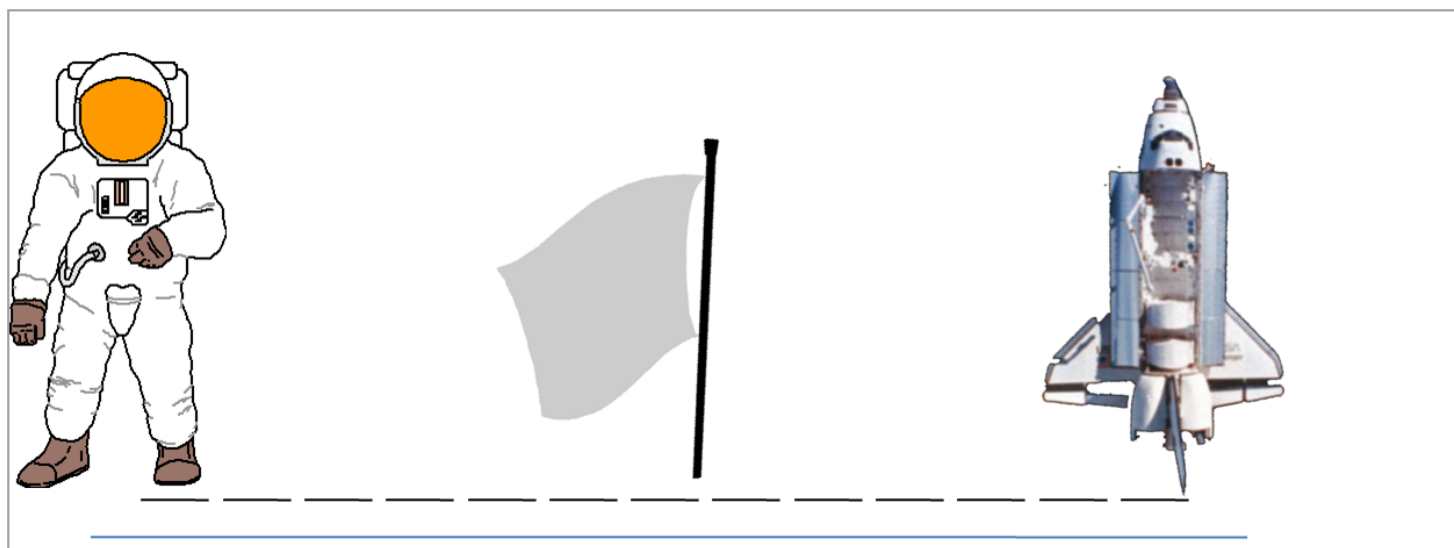
Observa

El extensible  		El de cinta  	
El articulado  		El de madera  	

Contesta correctamente

¿Cuántos pasos hay del astronauta a la nave?

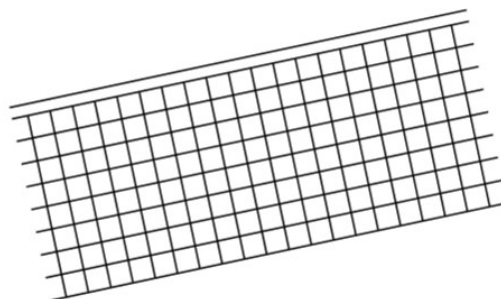

Cuenta las rayitas y escribe el número.



Cuenta cuántos pasos hay de cada uno a la red y luego escribe el número.

De Felipe a la red hay pasos



De Samanta a la red hay pasos




Contesta correctamente

¿Cuántas cuartas hay en cada imagen?


cuarta



Hay cuartas.




Hay cuartas.



Hay cuartas.

¿Cuántas cuartas hay?




Hay cuartas


Contesta correctamente

¿Cuántas brazadas hay en cada imagen?


brazada



Mide brazadas.

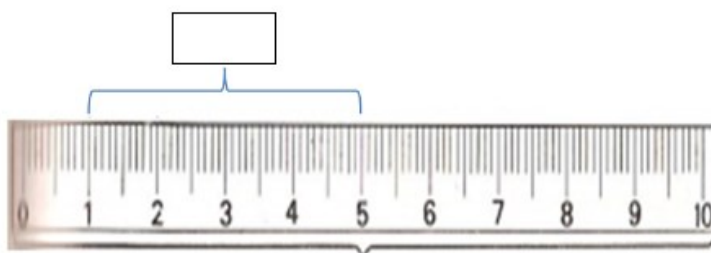
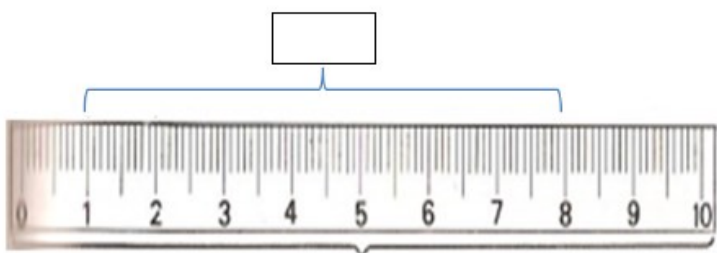
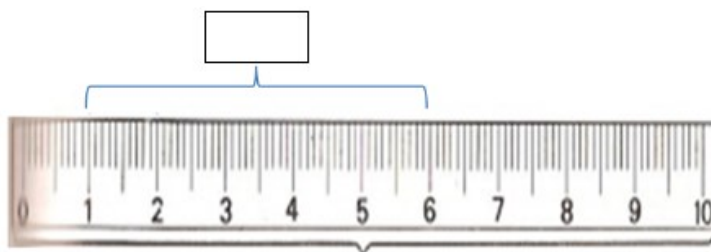
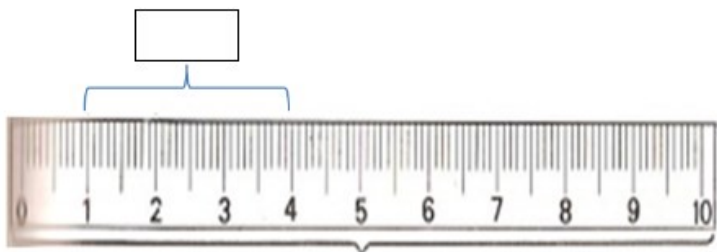


Mide brazadas.





Mide brazadas.

Escribe en el rectángulo el número de los centímetros que está marcando con llaves.



Contesta correctamente

Escribe el nombre de los dibujos que medidas con el metro




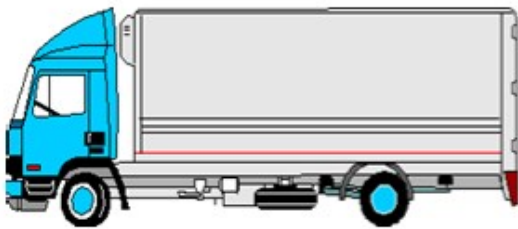
Contesta correctamente

Escribe el recuadro la hora que hay en cada reloj



Contesta correctamente

Encierra en un círculo las imágenes que medirías con centímetros



Contesta correctamente

Observa el reloj y contesta correctamente



El reloj y las horas

- a) La aguja corta del reloj señala
y la aguja larga señala
- b) Cada numerito del reloj señala
- c) Cada tictac del reloj es
- d) Una hora tiene minutos
y un minuto tiene segundos

VISITA



VISITA

[HTTP://CHANNELKIDS.COM](http://channelkids.com)

PARA MAS MATERIAL GRATUITO