

Diversos autores. Seminari d'Informàtica Educativa del pla d'Urgell.
Traducción al castellano: Rafael Rodriguez, para clic 3.0

Rediseñado por CHANNELKIDS.COM

NUESTRO CUERPO

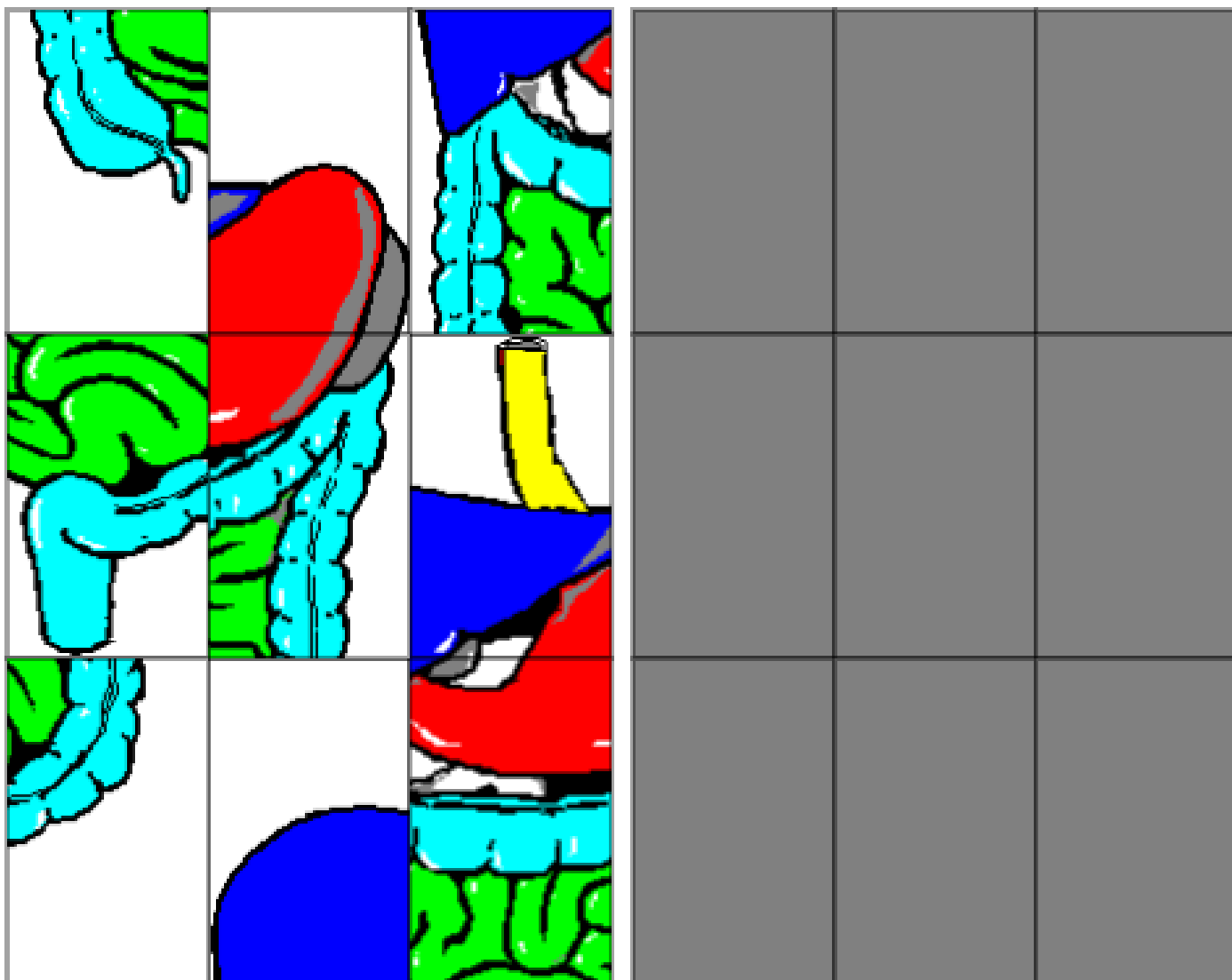
(APARATOS DEL CUERPO HUMANO)



ChannelKIDS
innovando en un clic

APARATO DIGESTIVO

RECORTA Y ARMA EL SIGUIENTE ROMPECABEZAS DEL APARATO DIGESTIVO



RECORTA Y PEGA LOS NOMBRES DEL APARATO DIGESTIVO



PEGUE AQUÍ



PEGUE AQUÍ



PEGUE AQUÍ



PEGUE AQUÍ

intestinos

hígado y vesícula

esófago y estómago

páncreas

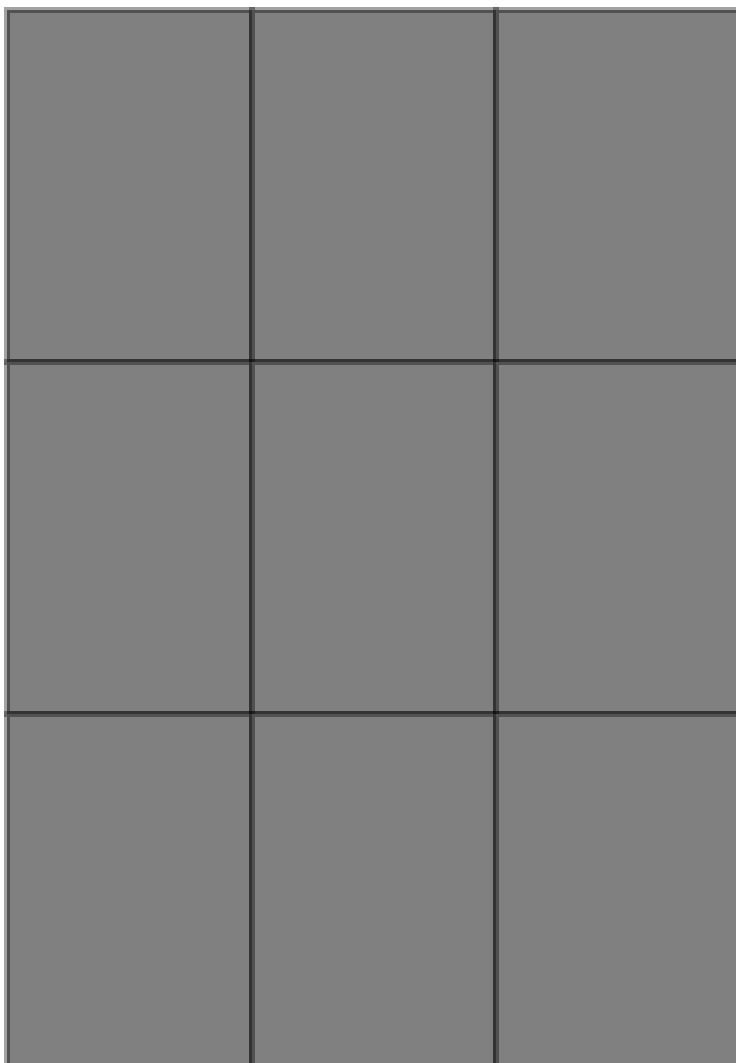
LOCALIZA 7 ORGANOS DEL APARATO DIGESTIVO

R	A	Z	H	D	P	I	P	Z	O
V	E	S	I	C	U	L	A	P	N
B	S	V	G	G	R	R	N	X	I
G	O	C	A	J	H	O	C	F	T
L	F	C	D	L	P	P	R	U	S
C	A	N	O	Y	I	T	E	M	E
S	G	C	I	F	B	Y	A	O	T
N	O	H	S	K	H	Q	S	Z	N
E	S	T	O	M	A	G	O	S	I

1. _____
2. _____
3. _____
4. _____
5. _____
6. _____
7. _____

APARATO EXCRETOR

RECORTA Y ARMA EL SIGUIENTE ROMPECABEZAS DEL APARATO EXCRETOR



¿QUIÉN EXCRETA LOS RESIDUOS DE NUESTRO CUERPO?



PEGUE AQUÍ



PEGUE AQUÍ



PEGUE AQUÍ



PEGUE AQUÍ

excrementos sólidos

orina

dióxido de carbono

sudor



RELACIONA LOS ORGANOS DEL APARATO URINARIO


Riñón
derecho

Uréter
izquierdo

Vejiga de
la orina

Uréter
derecho

Riñón
izquierdo



ENCUNETRA 5 NOMBRES RELACIONADOS CON EL APARATO EXCRETOR


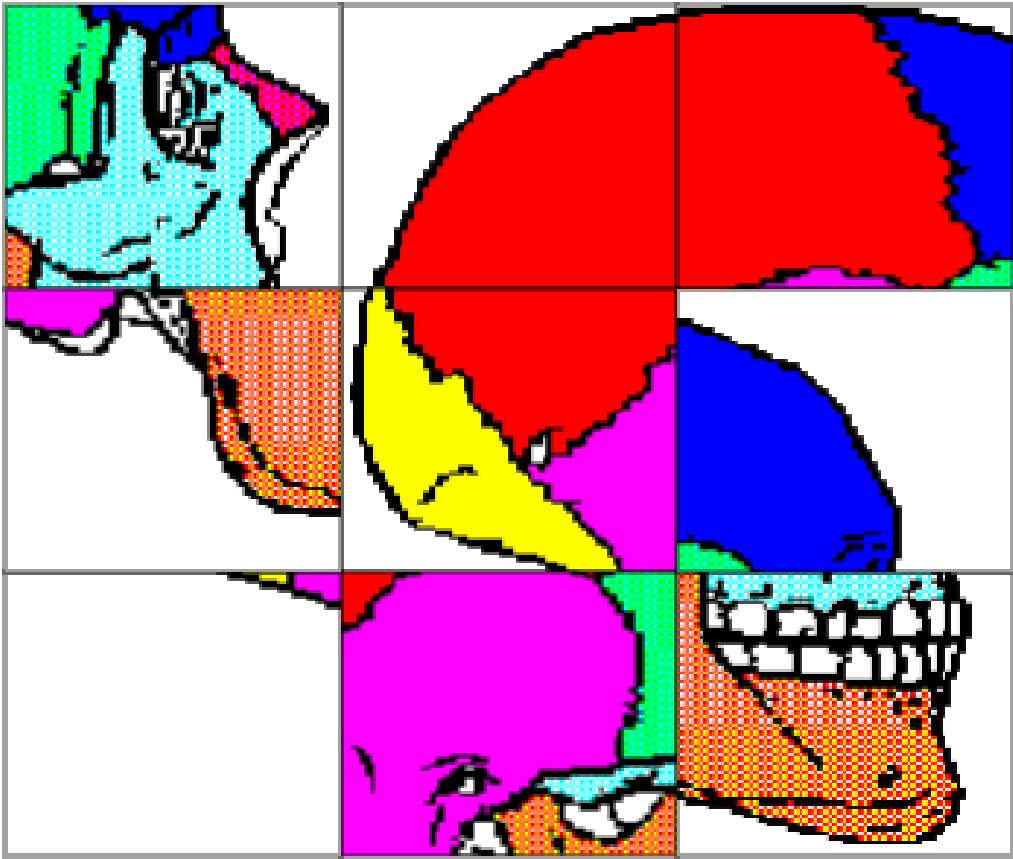
U	R	E	T	E	R	V
B	B	O	S	Y	I	E
W	R	P	U	K	Ñ	J
N	Q	K	D	K	O	I
F	Y	M	O	D	N	G
A	N	I	R	O	A	A

1. _____
2. _____
3. _____
4. _____
5. _____

APARATO LOCOMOTOR

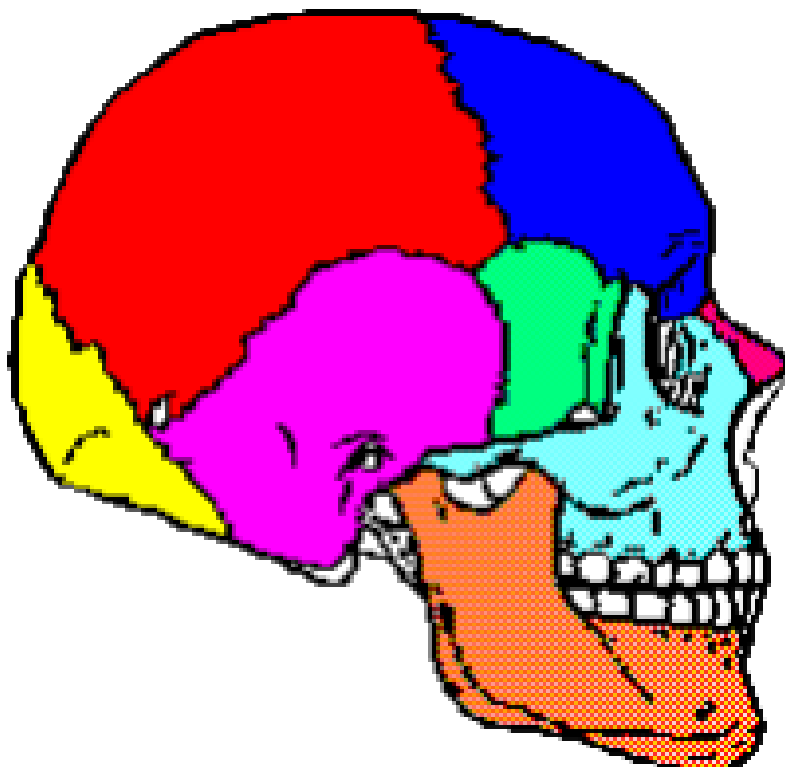


RECORTA Y ARMA EL SIGUIENTE ROMPECABEZAS DEL CRANEO



RELACIONA LOS NOMBRES CON EL HUESOS QUE LE CORRESPONDE

Hueso nasal	Parietal	Temporal
Occipital	Maxilar inferior	Frontal



ENCUNETRA 10 HUESOS DEL CRÁNEO

T	Q	F	R	O	N	T	A	L	E
E	M	R	Q	O	X	M	A	E	S
M	R	A	C	C	K	T	A	D	F
P	E	Z	X	C	E	U	T	I	E
O	M	J	W	I	Q	G	X	O	N
R	O	T	R	P	L	V	R	M	O
A	V	A	M	I	C	A	X	T	I
L	P	U	S	T	L	G	R	E	D
P	C	L	N	A	B	B	H	Z	E
S	D	A	M	L	L	A	S	A	N

1. _____
2. _____
3. _____
4. _____
5. _____

6. _____
7. _____
8. _____
9. _____
10. _____

ENCUENTRA 9 HUESOS DEL ESQUELETO

C L A V I C U L A B U
U O W B F H U M E R O
B Y S N Z P J O L A G
I C C T Y J G I M D P
T C O X I S W N J I E
O W Y P A L D H I O R
O F O M O P L A T O O
I X V F W T H A R C N
E S T E R N O N S R E

1. _____
2. _____
3. _____
4. _____
5. _____

6. _____
7. _____
8. _____
9. _____

RELACIONA LOS MUSCULOS CON LA PARTE DEL CUERPO DONDE SE ENCUENTRAN

risorio

pectoral

tríceps

sartorio

frontal

gemelos

glúteo

trapezio

cara

nalga

pantorrilla

muslo

cabeza

brazo

espalda

tórax



ENCUENTRA 9 MUSCULOS


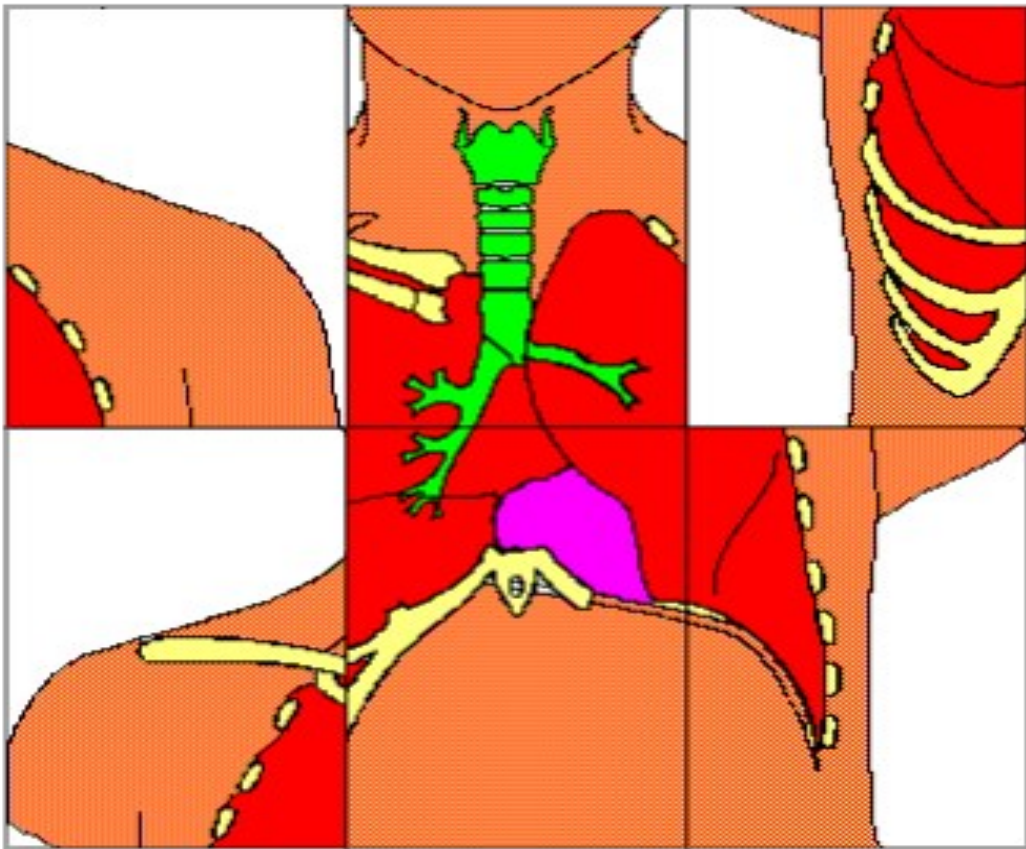
T	R	A	P	E	C	I	O	V	G	O	S
E	I	Q	E	Z	H	E	N	S	B	Q	A
M	S	Q	C	G	D	G	X	U	I	L	R
P	O	U	T	D	B	L	D	B	C	I	T
O	R	U	O	E	O	U	Z	X	E	X	O
R	I	F	R	O	N	T	A	L	P	N	R
A	O	M	A	V	G	E	E	Z	S	I	I
L	L	C	L	R	T	O	G	F	X	W	O
G	E	M	E	L	O	S	J	H	D	H	V

1. _____
2. _____
3. _____
4. _____
5. _____

6. _____
7. _____
8. _____
9. _____

APARATO RESPIRATORIO

RECORTA Y ARMA EL SIGUIENTE ROMPECABEZAS DEL APARATO RESPIRATORIO



RECORTA Y PEGA



PEGUE AQUÍ



PEGUE AQUÍ



PEGUE AQUÍ



PEGUE AQUÍ

pulmones

tráquea
bronquios

boca

nariz
fosas
nasales

RELACIONA LAS PARTES DEL APARATO RESPIRATORIO

bronquiolos
derechos

lóbulo
medio
derecho

lóbulo
inferior
derecho

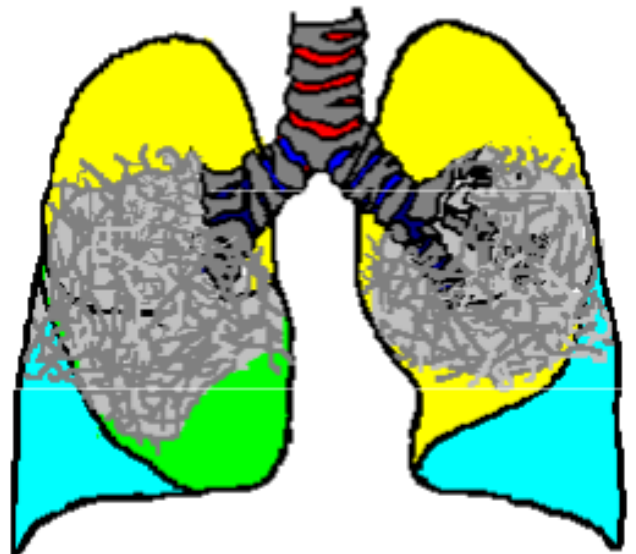
bronquiolos
izquierdos

lóbulo
superior
derecho

lóbulo
inferior
izquierdo

tráquea y
bronquios

lóbulo
superior
izquierdo



ENCUENTRA 8 ÓRGANOS DEL APARATO RESPIRATORIO

C L A V I C U L A B U
U O W B F H U M E R O
B Y S N Z P J O L A G
I C C T Y J G I M D P
T C O X I S W N J I E
O W Y P A L D H I O R
O F O M O P L A T O O
I X V F W T H A R C N
E S T E R N O N S R E

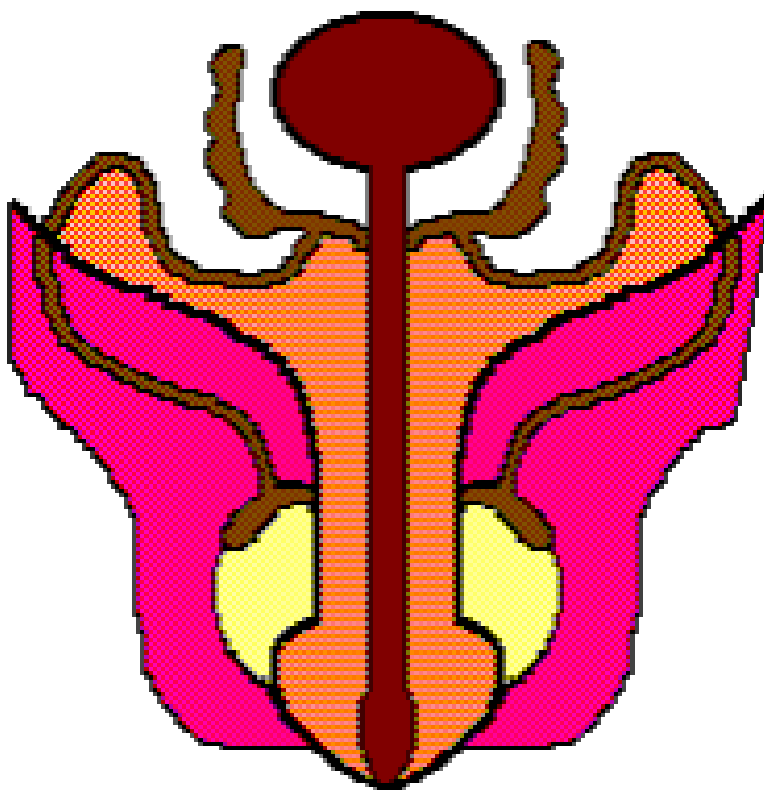
1. _____
2. _____
3. _____
4. _____
5. _____

6. _____
7. _____
8. _____

APARATO REPRODUCTOR

RELACIONA LAS PARTES DEL APARATO REPRODUCTOR MASCULINO

Escroto	Penis y Testículos
Vesículos seminales	Conductos deferentes



ESCRIBE EL ÓRGANO QUE CORRESPONDE A CADA DEFINICIÓN

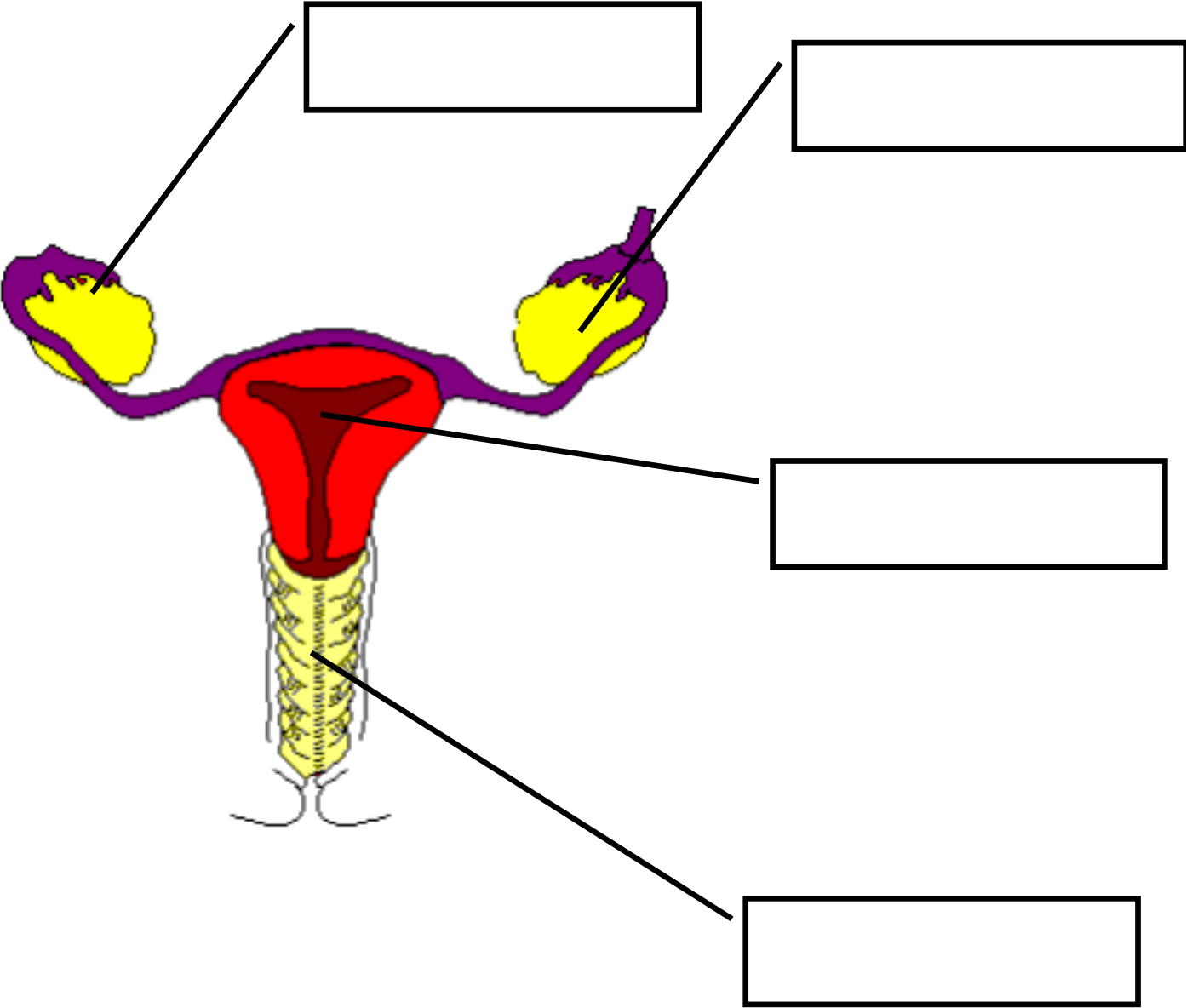
**Producen el líquido seminal,
en el cual están los
espermatozoides**

**El líquido seminal y los
espermatozoides salen a
través suyo**

**Órganos ovalados
encargados de producir
espermatozoides**

**Comunican los testículos
con los vesículos seminales**

ESCRIBE LAS PARTES DE APARATO REPRODUCTOR FEMENINO



ENCUENTRA 8 PALABRAS RELACIONADAS CON EL APARATO REPRODUCTOR

T	E	S	T	I	C	U	L	O	S
O	D	B	R	A	V	L	U	V	L
U	V	W	O	G	A	F	N	A	G
T	P	V	M	Y	G	M	Z	R	P
E	X	I	P	F	I	E	Z	I	G
R	O	L	A	E	N	E	P	O	E
O	Z	U	S	P	A	V	S	S	V
M	E	S	C	R	O	T	O	I	F

1. _____
2. _____
3. _____
4. _____
5. _____

6. _____
7. _____
8. _____

APARATO CIRCULATORIO

CONTESTA LAS SIGUIENTES PREGUNTAS

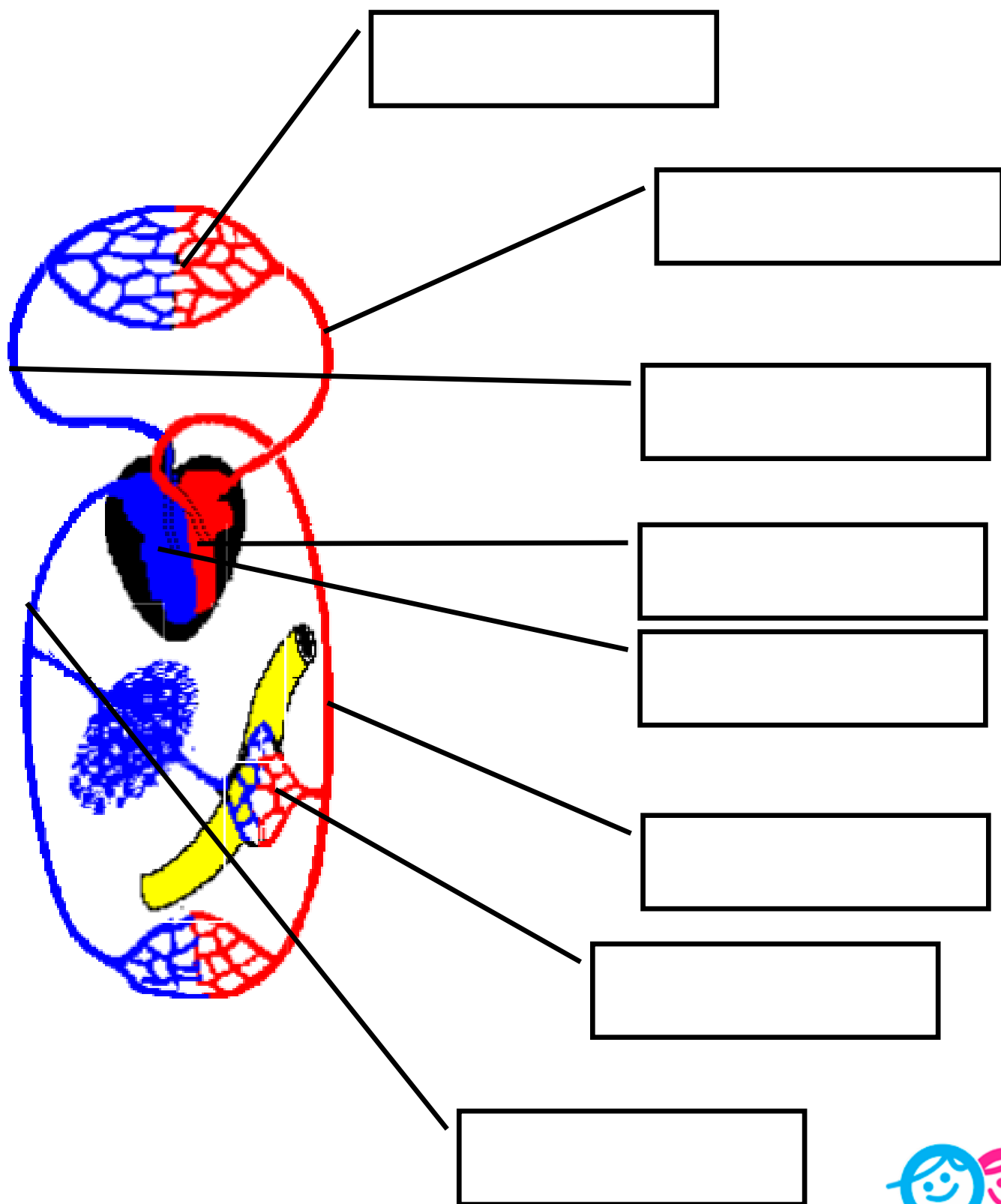
Hematies: poseen la hemoglobina, capaz de fijar el oxígeno del aire

No tienen núcleo, se forman en la médula roja de los huesos.

Líquido de color rojizo donde están los glóbulos

Leucocitos: luchan contra los microbios por medio de la fagocitosis y con antitoxinas.

ESCRIBE LAS PARTES Y ÓRGANOS DEL DE APARATO CIRCULATORIO



ENCUENTRA 9 PALABRAS SOBRE LA CIRCULACIÓN DE LA SANGRE

V	T	I	S	I	S	T	O	L	E	Y	C
E	U	R	B	R	A	I	R	E	T	R	A
N	K	R	I	T	A	W	B	H	M	U	P
T	G	S	R	C	L	L	P	L	Y	V	I
R	M	P	I	H	U	R	V	A	W	Q	L
I	O	V	S	O	C	S	C	R	H	Z	A
C	T	E	U	I	I	Y	P	T	B	I	R
U	B	N	G	U	R	O	J	I	W	N	N
L	P	A	U	V	U	W	O	M	D	T	B
O	H	E	D	I	A	S	T	O	L	E	L

1. _____
2. _____
3. _____
4. _____
5. _____

6. _____
7. _____
8. _____
9. _____



ChannelKIDS
innovando en un clic

VISITA

CHANNELKIDS.COM

PARA MAS MATERIAL GRATUITO