

ELABORADO POR Toni Miquel Mollà, CP Crist de la Pau Sant Joan d'Alacant
(Alacantí), para Clic 3.0

ADAPTADO PARA SU USO IMPRESO POR CHANNELKIDS.COM

SERIES

NUMÉRICAS



ChannelKIDS
innovando en un clic

NOMBRE: _____

RESUELVE LAS SIGUIENTES SERIES NUMÉRICAS

$2+2$ — — $+2$ — — $+1$ —

$+2$ — — $+1$ — — $+4$ —

$+1$ — — $+3$ — — $+2$ —

$2+2$ — — $+1$ — — $+2$ —

$+2$ — — $+1$ — — $+3$ —

$+3$ — — $+2$ — — $+2$ —

NOMBRE: _____

RESUELVE LAS SIGUIENTES SERIES NUMÉRICAS

$2+1$ $+3$ $+2$

$+1$ $+2$ $+2$

$+1$ $+3$ $+3$

$3+2$ $+2$ $+2$

$+1$ $+5$ $+1$

$+2$ $+1$ $+1$

NOMBRE: _____

RESUELVE LAS SIGUIENTES SERIES NUMÉRICAS

$1+2$ $+2$ $+2$

$+1$ $+3$ $+3$

$+2$ $+1$ $+3$

$20-1$ -2 -2

-3 -2 -2

-4 -2 -2

NOMBRE: _____

RESUELVE LAS SIGUIENTES SERIES NUMÉRICAS

$20-2$ -1 -1

-2 -4 -1

-2 -3 -3

$20-3$ -1 -2

-1 -1 -2

-2 -3 -5

NOMBRE: _____

RESUELVE LAS SIGUIENTES SERIES NUMÉRICAS

$20-1$ — — -1 — — -2 —

-3 — — -2 — — -2 —

-1 — — -4 — — -3 —

$20-2$ — — -2 — — -1 —

-1 — — -2 — — -1 —

-3 — — -4 — — -4 —

NOMBRE: _____

RESUELVE LAS SIGUIENTES SERIES NUMÉRICAS

$2+2$ $+3$ $+3$

-5 $+3$ $+4$

-2 $+8$ $+2$

$3+3$ $+4$ -2

$+3$ $+4$ $+4$

$+1$ -2 -3

NOMBRE: _____

RESUELVE LAS SIGUIENTES SERIES NUMÉRICAS

$4+4$ — — $+3$ — — $+4$ —

-4 — — $+2$ — — $+3$ —

$+4$ — — -5 — — -3 —

$5+5$ — — -2 — — $+3$ —

$+4$ — — -2 — — -2 —

$+3$ — — $+6$ — — -5 —

NOMBRE: _____

RESUELVE LAS SIGUIENTES SERIES NUMÉRICAS

$6+6$ $+3$ -1

-2 -4 $+8$

-6 -8 -2

$20-2$ -3 -5

$+6$ $+2$ $+3$

-2 -3 -5

NOMBRE: _____

RESUELVE LAS SIGUIENTES SERIES NUMÉRICAS

20-3

-2

+5

+4

-5

-9

+6

-6

+10

20-1

-3

-6

+10

-5

-5

+8

-5

+2

NOMBRE: _____

RESUELVE LAS SIGUIENTES SERIES NUMÉRICAS

20-2

-4

-3

+4

+5

-4

-5

+7

-2

20-3

-6

+4

-5

+8

-4

+6

-5

-3

NOMBRE: _____

RESUELVE LAS SIGUIENTES SERIES NUMÉRICAS

$0+3$ — — $+2$ — — -1 —

$+2$ — — -1 — — $+2$ —

$+3$ — — -2 — — $+2$ —

$10+3$ — — -1 — — $+3$ —


-1 — — $+2$ — — $+1$ —

-2 — — $+3$ — — $+2$ —


NOMBRE: _____

RESUELVE LAS SIGUIENTES SERIES NUMÉRICAS


$20+2$




$+3$




-2




$+1$




-2




$+3$



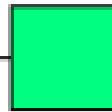
$+2$



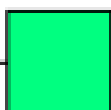
-1




$+4$




$30+4$




-3




$+2$




-1



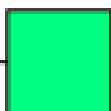
$+3$




-1




$+4$



-1



$+3$



NOMBRE: _____

RESUELVE LAS SIGUIENTES SERIES NUMÉRICAS

$40+5$ -3 $+2$

$+4$ -2 $+1$

$+2$ -2 $+3$

$50+4$ -2 $+1$

$+3$ -2 $+3$

-1 $+3$ $+1$

NOMBRE: _____

RESUELVE LAS SIGUIENTES SERIES NUMÉRICAS

$60+1$ — — $+3$ — — -1 —

$+3$ — — -1 — — $+2$ —

$+2$ — — -1 — — $+2$ —

$70+3$ — — -1 — — $+3$ —

-1 — — -2 — — $+4$ —

$+3$ — — -2 — — $+3$ —

NOMBRE: _____

RESUELVE LAS SIGUIENTES SERIES NUMÉRICAS

$80+5$ -2 $+3$

-2 $+3$ -2

$+3$ -1 $+3$

$90+4$ -1 $+2$

$+1$ -3 $+2$

$+3$ -2 $+4$

NOMBRE: _____

COMPLETA LA SERIE ESCRIBIENDO EL SIGNO Y EL NÚMERO JUNTOS, POR
EJEMPLO "+2" o "-3"

0 — 3 — — 5 — — 4

— 6 — — 5 — — 7

— 10 — — 8 — — 10

10 — 13 — — 12 — — 15

— 14 — — 16 — — 17

— 15 — — 18 — — 20

NOMBRE: _____

COMPLETA LA SERIE ESCRIBIENDO EL SIGNO Y EL NÚMERO JUNTOS, POR
EJEMPLO "+2" o "-3"

20 — 22 — — 25 — — 23

— 24 — — 22 — — 25

— 27 — — 26 — — 30

30 — 34 — — 31 — — 33

— 32 — — 35 — — 34

— 38 — — 37 — — 40

NOMBRE: _____

COMPLETA LA SERIE ESCRIBIENDO EL SIGNO Y EL NÚMERO JUNTOS, POR
EJEMPLO "+2" o "-3"

40 — 45 — — 42 — — 44

— 48 — — 46 — — 47

— 49 — — 47 — — 50

50 — 54 — — 52 — — 53

— 56 — — 54 — — 57

— 56 — — 59 — — 60

NOMBRE: _____

COMPLETA LA SERIE ESCRIBIENDO EL SIGNO Y EL NÚMERO JUNTOS, POR
EJEMPLO "+2" o "-3"

60 — 61 — — 64 — — 63

— 66 — — 65 — — 67

— 69 — — 68 — — 70

70 — 73 — — 72 — — 75

— 74 — — 72 — — 76

— 79 — — 77 — — 80

NOMBRE: _____

COMPLETA LA SERIE ESCRIBIENDO EL SIGNO Y EL NÚMERO JUNTOS, POR
EJEMPLO "+2" o "-3"

80 — 85 — — 83 — — 86

— 84 — — 87 — — 85

— 88 — — 87 — — 90

90 — 94 — — 93 — — 95

— 96 — — 93 — — 95

— 98 — — 96 — — 100

NOMBRE: _____

COMPLETA LA SERIE ESCRIBIENDO EL SIGNO Y EL NÚMERO JUNTOS, POR
EJEMPLO "+2" o "-3"

80

85

83

86

84

87

85

88

87

90

90

94

93

95

96

93

95

98

96

100

NOMBRE: _____

COMPLETA LA SERIE ESCRIBIENDO EL NÚMERO, EL SIGNO O EL NÚMERO JUNTOS, POR EJEMPLO "+2" o "-3"

$0+3$ — — — 5 — -1 —

$+2$ — — — 5 — — 7

$+3$ — — -2 — — — 10

10 — 13 — -1 — — $+3$ —

— 14 — — 16 — $+1$ —

-2 — — — 18 — $+2$ —

NOMBRE: _____

COMPLETA LA SERIE ESCRIBIENDO EL NÚMERO, EL SIGNO O EL NÚMERO JUNTOS, POR EJEMPLO "+2" o "-3"

$20+2$ — — $+3$ — — — 23

$+1$ — — — 22 — $+3$ —

— 27 — — 26 — $+4$ —

30 — 34 — — 31 — $+2$ —

-1 — — — 35 — — 34

$+4$ — — — 37 — $+3$ —

NOMBRE: _____

COMPLETA LA SERIE ESCRIBIENDO EL NÚMERO, EL SIGNO O EL NÚMERO JUNTOS, POR EJEMPLO "+2" o "-3"

$40+5$ — — -3 — — — 44

— 48 — -2 — — $+1$ —

— 49 — — 47 — $+3$ —

50 — 54 — — 52 — — 53

$+3$ — — -2 — — — 57

-1 — — — 59 — $+1$ —

NOMBRE: _____

COMPLETA LA SERIE ESCRIBIENDO EL NÚMERO, EL SIGNO O EL NÚMERO JUNTOS, POR EJEMPLO "+2" o "-3"

$60+1$ — — — 64 — -1 —

— 66 — -1 — — — 67

$+2$ — — -1 — — — 70

70 — 73 — — 72 — — 75

-1 — — -2 — — — 76

$+3$ — — — 77 — — 80

NOMBRE: _____

COMPLETA LA SERIE ESCRIBIENDO EL NÚMERO, EL SIGNO O EL NÚMERO JUNTOS, POR EJEMPLO "+2" o "-3"

80+5

83

+ 3

- 2

87

- 2

88

87

+ 3

90

94

93

+ 2

96

93

+ 2

98


- 2

100

NOMBRE:



VISITA



ChannelKIDS
innovando en un clic

VISITA

[HTTP://CHANNELKIDS.COM](http://channelkids.com)

PARA MAS MATERIAL GRATUITO